



T.C. Ölçme, Seçme ve Yerleştirme Merkezi

**YÜKSEKÖĞRETİM KURUMLARI SINAVI
TEMEL YETERLİLİK TESTİ (TYT)**

30 HAZİRAN 2018 CUMARTESİ

Bu testlerin her hakkı saklıdır. Hangi amaçla olursa olsun, testlerin tamamının veya bir kısmının Merkezimizin yazılı izni olmadan kopya edilmesi, fotoğrafının çekilmesi, herhangi bir yolla çoğaltılması, yayımlanması ya da kullanılması yasaktır. Bu yasağa uymayanlar gerekli cezai sorumluluğu ve testlerin hazırlanmasındaki mali külfeti peşinen kabullenmiş sayılır.

DİKKAT!

Din Kültürü ve Ahlak Bilgisi dersini yasal olarak almak zorunda olan adaylar ve İmam Hatip Okulları öğrencileri/mezunları, Sosyal Bilimler Testinin ilk 20 sorusunu cevaplamakla yükümlüdür. Bu adaylar 21. - 25. soruları cevaplamayacaklardır.

Din Kültürü ve Ahlak Bilgisi dersini yasal olarak almak zorunda olmayan veya farklı müfredat ile alan adaylar, 16. - 20. soruların hiçbirini cevaplamadan 21. - 25. soruları cevaplayacaklardır.

Cevap Kâğıdının Sosyal Bilimler Testine ait bölümünde 16. - 20. cevap alanlarında herhangi bir işareti bulunan adayların 21. - 25. cevap alanlarındaki işaretlemeleri değerlendirmeye alınmayacaktır.

AÇIKLAMA

1. Bu kitapçıkta sırasıyla Türkçe Testi, Sosyal Bilimler Testi, Temel Matematik Testi ve Fen Bilimleri Testi bulunmaktadır.
2. Bu testler için verilen toplam cevaplama süresi **135 dakikadır (2 saat, 15 dakika)**.
3. Bu kitapçıkta testlerde yer alan her sorunun sadece bir doğru cevabı vardır. Bir soru için birden çok cevap yeri işaretlenmişse o soru yanlış cevaplanmış sayılacaktır.
4. İşaretlediğiniz bir cevabı değiştirmek istediğinizde, silme işlemini çok iyi yapmanız gerektiğini unutmayınız.
5. Bu testler puanlanırken her testteki doğru cevaplarınızın sayısından yanlış cevaplarınızın sayısının dörtte biri çıkarılacak ve kalan sayı o bölümle ilgili ham puanınız olacaktır.
6. Cevaplamaya istediğiniz sorudan başlayabilirsiniz. Bir soru ile ilgili cevabınızı, cevap kâğıdında o soru için ayrılmış olan yere işaretlemeyi unutmayınız.
7. Sınavda uyulacak diğer kurallar bu kitapçığın arka kapağında belirtilmiştir.

1. Bu testte 40 soru vardır.

2. Cevaplarınızı, cevap kâğıdının Türkçe Testi için ayrılan kısmına işaretleyiniz.

1. Arkeogenetik, insanlığa dair geçmişî moleküler genetik teknikler ---- araştıran bir bilim dalı olarak tanımlanabilir. Bazı temel konular üzerindeki çalışmalar henüz sürmekteyse de hızla ---- bir bilim dalı hâline gelmiştir.

Bu parçada boş bırakılan yerlere aşağıdakilerden hangisi sırasıyla getirilmelidir?

- A) yoluyla - değişken B) sayesinde - benimsenen
C) deneyerek - bilinen D) geliştirerek - sevilen
E) kullanarak - gelişen

2. Yüksel Pazarkaya, ülkemizde eşine az rastlanan I
(ender görülen) bir titizlikle, Rainer Maria Rilke'nin tüm şiirlerini toplam on iki kitap hâlinde dilimize kazandırdı. Bu külliyat (toplu eserler), Rilke'nin II yazın çalışmalarını içeren Kâmuran Şipal çevirileriyle birlikte değerlendirildiğinde (aynı kitapta toplandığında) III önemli bir kazanım niteliğinde. Çeviri eylemi, çoğu kez (genellikle), farklı kültürler arasında IV köprü kurmakla (bağ oluşturmakla) kalmıyor, V yeni imgesel yorumların kapısını da aralayabiliyor.

Bu parçadaki numaralanmış sözlerden hangisinin anlamı parantez () içinde verilen açıklamayla uyusmamaktadır?

- A) I B) II C) III D) IV E) V

3. (I) Her atasözü bir genel kural, bir ilke niteliği taşır. (II) Bazı atasözleri sosyal ilişkiler üzerine görüş bildirir. (III) Bazı atasözleri ise uzun gözlemlere dayanarak doğa olaylarının gündelik yaşam üzerindeki etkilerini anlatır. (IV) Tecrübeler veya mantığa dayanarak doğrudan doğruya öğüt veren atasözleri de vardır. (V) İki yargı taşıyan atasözlerinde ise yargılar arasında benzetme ilgisinden ziyade iki yargının birbirini tamamladığı veya birbirine karşıt olduğu görülür. (VI) Bir de genelin aksine temsilî ve mecazi anlatıma sahip olmayan atasözlerimiz vardır.

Bu parçada numaralanmış cümlelerdeki açıklamalara aşağıdaki atasözlerinden hangisi örnek olarak gösterilemez?

- A) II. cümle: Komşu komşunun külüne muhtaçtır.
B) III. cümle: Mart kapıdan baktırır, kazma kürek yaktırır.
C) IV. cümle: Çirkefe taş atma, üstüne sıçrar.
D) V. cümle: Var evi kerem evi, yok evi verem evi.
E) VI. cümle: Besle kargayı oysun gözünü.

4. **Aşağıdaki yargılardan hangisi kişisel düşünce içermemektedir?**

- A) Engin denizlerde, dünyanın gürültüsünden patırtısından uzak, düşsel bir adanın şiiriyle büyülenmiş insan sayısı azımsanamayacak kadar çoktur.
B) İnsanoğlu yüzyıllardır mutluluk, dirlik, düzenlik, ölümsüzlük yönündeki özlemlerini çoğunlukla uzak bir ada görüntüsüyle dile getirmeyi seçmiştir.
C) Kendini ıssız bir adada en çetin güçlüklerle karşı karşıya düşünen, parklarda Robinsonculuk oynayan çocuklar bugün de var.
D) Bir edebiyat yapıtında anlatılan olayın yeri olarak değerlendirilen ada, yalnızlığın sembolü olmasıyla coğrafyacının veya haritacının adasından farklıdır.
E) Coğrafyacı açısından ada; konumu, yüzey şekilleri, yüz ölçümü, nüfusu ve iklimi incelenecek her yanı suyla çevrili bir kara parçasıdır.

5. I. Yazar, eserlerinde gelenekle arasına bir mesafe koymaktansa bu birikime, yaşadığı döneme özgü bir pencereden bakmayı tercih ediyor.
- II. Yazarın hiçbir edebiyat geleneğine bağlanmayı, onu çağdaşı yazarlardan ayıran önemli bir özellik olarak ön plana çıkıyor.
- III. Yazar, bu kitabıyla kendinden önce üretilen eserleri okumanın bir özgünlük sorununa yol açmayacağını herkese kanıtıyor.
- IV. Yazar, tarihin kendisine aktardığı seslere kulak tıkamıyor ancak onları kendi döneminin gerçekliğinin süzgecinden geçiriyor.
- V. Yazarın kendi olma sorununu tartıştığı bu kitapta, yüzünün düne değil yarına dönük olduğu açık bir biçimde gözlemlenebiliyor.

Yukarıdaki numaralanmış cümlelerden hangileri anlamca birbirine en yakındır?

- A) I ve III B) I ve IV C) II ve IV
- D) III ve V E) IV ve V

6. • Davies, eğitimi bireyleri kapasitelerine göre farklı statülere yerleştiren bir sistem olarak değerlendirmektedir.
- Toplumsal tabakalaşmayı temel alarak en yeteneklilerin en önemli mesleklerle ödüllendirilmesi gerektiğine inananlar, bu görüşe destek vermişlerdir.

Bu iki cümlede ifade edilenlerin anlamca doğru bir biçimde birleştirilmiş hâli aşağıdakilerden hangisidir?

- A) Davies, eğitimin tanımını yaparken, farklı yeteneklere sahip olan kişilerin buna bağlı olarak farklı mesleklere yerleştirilmesi gerektiğini ve bunun da toplumsal tabakalaşmanın gereği olduğunu savunmuştur.
- B) Toplumsal tabakalaşma temelinde en yetenekli insanların en önemli meslekleri elde etmesi gerektiğini düşünen kişiler; Davies'in, eğitimin bireyleri kapasitelerine bağlı olarak farklı statülere yerleştiren bir sistem olduğu düşüncesini desteklemişlerdir.
- C) Meslek seçiminde eğitimin belirleyici olması gerektiğini vurgulayan Davies ile toplumsal tabakalaşmayı esas alıp yetenekli kişilerin statüsü yüksek mesleklere yerleşmesi gerektiğini savunanların görüşleri örtüşmektedir.
- D) En yetenekli insanları en iyi mesleklere yönlendirmenin gerekli olduğunun ve bunun eğitimle sağlanacağını altını çizen Davies, bu konudaki tanımlarını toplumsal tabakalaşmayı savunanların görüşleriyle desteklemektedir.
- E) Toplumun meslekler açısından tabakalaşmasının, yani en yeteneklilerin en önemli mesleklere sahip olmasının toplumsal bir gerçeklik olduğunu belirten Davies'in eğitim tabakalaşma ilişkisine dayanan bu düşüncesi, geniş kitleler tarafından desteklenmiştir.

7. Ben, sisi zihnin bazı hâllerine benzetirim. Sis içindeyken
I
sanki başka bir dünyada, başka bir nizam içinde
oynayan muhayyilem, beni daima şaşırtır. Kimi zaman
II
temel karakterler üzerinde kalıp ayrıntılardan
III
uzaklaşmanın mutluluğunu yaşıyorum. Kimi zaman da
zihnim ayrıntılara dalıp çevreyi kolaçan etmeye başlar.
IV
Birkaç gündür İstanbul'un üstünü bütünüyle örten sis de
zihnim gibi oyunlar oynuyor ve görülen, ışitilen her şeyi
V
farklı bir şekle sokuyor.

Bu parçadaki altı çizili sözcüklerin hangisinde ünlü düşmesi yoktur?

- A) I B) II C) III D) IV E) V

8. Gelecekteki bilişsel sistemlerin çevreyle etkileşim
I
hâlinde olması bekleniyor. Canlı organizmaların
sinir sistemlerinden esinlenerek geliştirilen bu
II
mekanizmaların en önemli özelliği, klasik işlemcilerin
III
aksine hafıza ve işlemci birimlerinin bir arada olmasıdır.
İnsan beynine benzer biçimde çalışan elektronik cihazlar
IV
henüz tasarlanmamış olsa da yakın zamanda bu konuda
önemli gelişmeler yaşanması bekleniyor.
V

Bu parçada numaralanmış sözcüklerden hangileri isim kökünden türemiştir?

- A) I ve II B) I ve III C) II ve IV
D) III ve V E) IV ve V

9. Sırf kendi için okuyan, gezen, eğlenen bir aydın kendini yaşarken öldürmüyor mu?

Bu cümledeki öğelerin doğru sıralanışı aşağıdakilerden hangisinde verilmiştir?

- A) Belirtisiz nesne - özne - zarf tümleci - yüklem
B) Zarf tümleci - belirtili nesne - yüklem
C) Özne - belirtili nesne - zarf tümleci - yüklem
D) Özne - zarf tümleci - yüklem
E) Belirtisiz nesne - zarf tümleci - yüklem

10. Cümledeki sözcüklerin arasına yerli yersiz, sıfat yerleştirmenin edebiyat metninin bir özelliği olduğunu sanan "yazar adayları" var. Bence yazmayla ilgili en temel yanlışlardan biridir bu. Yakın anlamlı sıfatların işlevsiz olarak kullanıldığı cümleler, dikiş izlerini belli eden bir elbiseye benziyor. Böyle olunca okur, bir bütün olarak kumaşı değil dikiş izlerini görüyor.

Aşağıdakilerden hangisi bu parçada eleştirilen bakış açısıyla yazılmıştır?

- A) Günler, kuvvetli bir rüzgârın sürüklediği beyaz bulut kümecikleri gibi birbiri ardına geçip gidiyordu ve biz bunların sonunda muhakkak bir fırtına kopacağını seziyorduk.
B) Sonbahar; yemişleri, bulutları, güneşi, maviliği ve yeşili ile insana şiir, edebiyat, musiki ve mesut insanlarla dolu bir dünya düşündürüyor.
C) Yağışlı, donuk ve karlı bir kış akşamının karanlığında başlayan o derin yalnızlığım giderek artıyor; bu koyu kimsesizliğim beni, aydınlık ve ışıklı bir sabaha uzanmaktan men ediyor.
D) O haftayı ve ondan sonra geleni, sadece onu düşünerek geçirdim; belki rastlarım ümidiyle birkaç defa Boğaziçi'ne gittim, Emirgân'da, Kandilli'de ve şurada burada dolaşım.
E) Çardaklardaki yapraklar, kırmızının en son hâline doğru ağır ağır, kızara kızara kırmızının renk oyunları içinde düşmeden evvel sallanıp durdular.

11. Sosyalleşme süreci; gittikçe yoğunlaşan kontrol, yön
I
verme ve biçimlendirme etkisiyle doğal bir varlık olan
II
insanı; uygar, kanunlara saygılı, diğer insanların hak ve
III
sorumluluklarını hesaba katan, kendinden emin, sakin,
IV
mutlu, mesleki yeterliğe sahip bireyler hâline getirir.
V

Bu parçada altı çizili sözcüklerden hangisi yapım eki almamıştır?

- A) I B) II C) III D) IV E) V

12. Toprakla uğraşanları maddi açıdan desteklemek
ülkemizin kalkınmasına önemli ölçüde katkı
sağlayacaktır.

Bu cümlelerin öznesi, aşağıdaki sözcük gruplarının hangisinden oluşmuştur?

- A) Sıfat tamlaması B) İsim tamlaması
C) İsim-fiil grubu D) Zarf-fiil grubu
E) Sıfat-fiil grubu

13. (I) Tıpkı insanlar gibi şehirlerin de bir yazgısı, bir ömrü, doğumu ve ölümü vardır. (II) Zamanın karanlık katmanları arasından günümüze ulaşan antik şehirler; farklı dönemlerin, kültürlerin, inançların ve yaşama biçimlerinin tanıklığını yaparlar. (III) Bu nedenle şehirler, uygarlıkların kendi öykülerini yazdıkları bir kitap gibidir. (IV) Onların sayfaları arasında, mazinin acı tatlı anıları gömülüdür ve bunların pek azı tarihin açık sayfalarına yansımıştır. (V) Herhangi bir antik kentin sokaklarını dolaştığınızda, bu kentin tanıtım broşürlerinde yazılardan çok daha fazlasını göreceksiniz.

Bu parçada numaralanmış cümlelerin hangilerinde fiilimsi yoktur?

- A) I ve III B) I ve IV C) II ve III
D) II ve V E) IV ve V

14. *Körlük*, Nobel ödüllü yazar Jose Saramago'nun 1995 yılında yayımlanmış romanıdır. Okuyucu, bu kitapta kahramanları; adıyla değil, onları tanıtan ifadelerle görür. Yazar her birini "doktor, doktorun karısı, hırsız, koyu renk gözlüklü genç kız" gibi çeşitli sıfatlarla adlandırır. Kahramanların diyaloglarını da anlatıcının sesine yedirerek metni uzun bir monoloğa dönüştürür. Okur bu durum karşısında romanı takip etmekte güçlük çeker ve kendini âdeta bir labirentin içinde bulur. Ayrıca Saramago, roman boyunca nokta ve virgül dışında noktalama işareti kullanmaz. Bu da metnin bütüncüllüğüne katkıda bulunan bir başka yöntemdir.

Bu parçadaki altı çizili ifadeyle

- I. Eserde kişilerin, özellikleriyle anımsatılması
II. Birden fazla teknikten yararlanılmış olması
III. Olayların karmaşık bir şekilde aktarılması

durumlarından hangilerine gönderme yapılmamıştır?

- A) Yalnız I B) Yalnız II C) Yalnız III
D) I ve II E) II ve III

15. (I) Kişiye odaklı söyleşilerde amaç; soru sorulan kişinin yaşamını, yaptıklarını veya fikirlerini gündeme getirmektir. (II) Bu tür söyleşilerin öznesi, toplumda merak uyandıran ünlü şahsiyetler olabilir. (III) Örneğin sporcular, sanatçılar ve politikacılar bu söyleşilerde sıklıkla yer alır. (IV) Kimi zamanda tanınmamış ancak yaşamı ve yaptıklarıyla dikkatleri çekmiş kişiler seçilir. (V) Sorular aracılığıyla onların iç dünyalarında neler yaşadıkları okura aktarılmak istenir.

Bu parçada numaralanmış cümlelerin hangisinde "de" bağlacının yazımıyla ilgili bir yanlışlık yapılmıştır?

- A) I B) II C) III D) IV E) V

16. Aşağıdakilerin hangisinde nesne, sadece isim tamlamasından oluşmuştur?

- A) Uzunca bir süre trenin penceresinden ağaçlarla kaplı köyleri seyretti.
- B) Büyükbabam, ailenin en küçüğüne en güzel odayı vermişti.
- C) Bunca yılın ardından sokak satıcılarının seslerini hâlâ özlüyorum.
- D) Geçmiş günlerin özlemi içimde her gün biraz daha büyüyordu.
- E) Emekliye ayrılınca evinin bahçesi âdeta sığınağı olmuştu.

17. “Birleşik sözcüğü oluşturan sözcüklerden biri veya her ikisi birleşme sırasında anlam değişmesine uğramışsa sözcük bitişik yazılır.”

Aşağıdaki cümlelerin hangisinde bu kurala uyulmadığı için bir yazım yanlışı yapılmıştır?

- A) Adını şarkılarda duyduğumuz yalıtırcı, adalarda yaşayan bir kuş türüdür.
- B) Yemekten sonra tatlı olarak birer porsiyon bülbülyuvası siparişi verdik.
- C) Doğum günüm için annem bana camgöbeği renginde bir kazak örmüş.
- D) Pek çok kişinin sandığının aksine denizyılanı nehirlerde de yaşayabilir.
- E) Yazar bu öyküsünde semt pazarlarındaki ayaküstü sohbetlere önemli bir yer ayırmış.

18. Annesi şaşırarak şöyle dedi () “Ne var () neyi düşünüyorsun?” Şen şakrak kızının yüzündeki durgunluğa bir anlam verememişti () “Bez bebeğimi, dedemin aldığı bisikleti, kırmızı uçurtmamı, parlak ayakkabılarımı () Aslında ne kadar güzelmiş benim çocukluğum () değil mi anne?”

Bu parçada parantezle () belirtilen yerlere, aşağıdaki noktalama işaretlerinden hangisi sırasıyla getirilmelidir?

- A) (:) (;) (.) (...) (.) B) (!) (,) (:) (.) (,)
- C) (!) (;) (...) (.) (;) D) (:) (,) (.) (...) (,)
- E) (,) (?) (:) (.) (!)

19. Aşağıdaki cümlelerin hangisinde kesme işaretinin kullanımıyla ilgili bir yanlışlık yapılmıştır?

- A) Pamukkale travertenleri, Denizli'mizin önde gelen turistik değerlerindedir.
- B) Bu yasa tasarısı Bakanlar Kurulu'nda uzun uzun tartışıldı.
- C) Ferhunde Hanım'dan gelen son mektubu ailecek sevinç içinde okuduk.
- D) Üniversitemizde tek ders sınavlarının 30 Haziran'da yapılacağı açıklandı.
- E) TDK'nin bir görevi de geçmişte yazılmış eserleri günümüze kazandırmaktır.

20. Bakmayın sahilinin dolguyla denizden yükseltilmiş olmasına; denizin içinden çıkıp içeri doğru yılan misali kıvrılan yokuşun ta Galata Kulesi'nin gölgesine kadar uzandığı bir semt Tophane. Ana sokakları bayır, ara sokakları çıkmaz. Bu nedendir ki adımlar hafif hafif, ağır ağır atılır burada. Sanki semti derinlemesine hissettirmek ve geçmişi teneffüs ettirmek için yukarı doğru uzadıkça uzar yol.

Bu parçanın anlatımında aşağıdakilerden hangisi yoktur?

- A) Karşılaştırma B) Benzetme
C) İkileme D) Niteleme
E) Mecazlı söyleyiş

21. (I) Eski çağlardan beri ticareti yapılan inci, bugün de yaygın bir şekilde alınıp satılmaktadır. (II) İnciyi oluşturabilen en tipik deniz hayvanının istiridyeye olduğu bilinmektedir. (III) Bu su canlısı, içine girip yerleşen kum tanecikleri veya larvalara karşı kendini korumak için sedef adı verilen sıvı bir madde salgılamaktadır. (IV) Sedef bir yandan salgılanıp çoğalırken diğer yandan istiridyenin içine yerleşen maddeyi kaplayarak incinin oluşmasını sağlamaktadır. (V) İncinin büyüklüğü, şekli, parlaklığı ve rengi de bu süreçte oluşmaktadır.

Bu parçada numaralanmış cümlelerden hangisi düşüncenin akışını bozmaktadır?

- A) I B) II C) III D) IV E) V

22. (I) Çoğumuz düşünmeyen bir dünyada yaşıyor olmaktan yakınıyoruz. (II) İnsanların büyük bir bölümü en az düşünceyle bütün bir yaşamı omuzlamak gibi bir kolaycılığı benimsiyor. (III) Hatta kimileri düşünceyle alay ederken kimileri gerçekten düşündüklerini sanıyorlar. (IV) Büyük çoğunluğunu düşünmeyenlerin oluşturduğu ve düşünmenin lüks sayıldığı bir dünyada her şeye karşın düşünen insanı "gerçek insan" diye tanımlamak gerekir. (V) Düşünmek; insana, insan yaşamına bütünsel bir bakışla bakmaktır. (VI) Düşünce alanımızı daralttığımız zaman dünyaya yeterince yerleştiğimizi söyleyemeyiz. (VII) Düşünmek, dünyaya bir veya birkaç açıdan değil bütün açılardan bakmayı bilmekle olur.

Bu parça iki paragrafa ayrılmak istense ikinci paragraf numaralanmış cümlelerin hangisiyle başlar?

- A) II B) III C) IV D) V E) VI

23. Bir anaokulundaki çocukların ebeveynleri, bazen işleri nedeniyle çocuklarını okulun kapanma saatinden sonra almaya gider. Böyle zamanlarda okul personelinin bazıları çocuklarla birlikte beklemek zorunda kalır. Bu durum birtakım sorunlara yol açar. Yöneticiler de çözüm olarak geciken ebeveynlere bir yaptırım uygulamaya karar verir. Ancak bir süre sonra ailelerin daha çok gecikmeye başladığı görülür. Çünkü aileler artık cezalarını çektikleri için kendilerini rahat hisseder. Diğer bir deyişle ----.

- I. daha önce yaşadıkları mahcubiyet duygusundan uzaklaşarak kendilerini haklı gördükleri bir konuma gelirler
- II. okulda bekleyen çocukların aileleri davranışlarıyla cezalardan hoşnut olmadıklarını gösterirler
- III. yöneticiler uyguladıkları yöntemle asıl cezayı ailelere değil, okul personeline verdiklerini fark ederler

Bu parçanın sonuna düşüncenin akışına göre yukarıdakilerden hangileri getirilebilir?

- A) Yalnız I B) Yalnız II C) Yalnız III
D) I ve II E) II ve III

24. Soyut matematik problemleri Heisenberg'i büyülemekteydi. Kanıtlamaya çalışıp da başarılı olamadığı Fermat'ın son teoremi de bunlar arasındaydı. O sıralarda bir arkadaşı ona Einstein'ın görelilik kuramı üzerine yazılmış bir kitap verdi. Heisenberg, kitap üzerinde çalışarak kuramda kullanılan ve "Lorentz dönüşümleri" adı verilen özel matematiksel araçları anlamak için epey çaba sarf etti. Yine de fiziği o sırada meslek olarak düşünmüyordu. Onu büyüleyen fiziğin arkasındaki matematikti. Bu ilgisi ileride onun bir fizikçi olarak düşünüşünü de etkileyecek ve ona olanaksız görünen problemleri çözmede Einstein gibi ileri düzeyde matematik kullanma ayrıcalığı taniyacaktı.

Bu parçadan Heisenberg ile ilgili olarak aşağıdaki yargıların hangisine ulaşılabilir?

- A) Einstein'ın görelilik kuramını geliştirmesine çalışmalarıyla katkıda bulunmuştur.
- B) Fizik alanında başarılı olmak amacıyla ileri matematik çalışmaları yapmıştır.
- C) Fizik alanında çalışmış olmasına rağmen daha çok soyut matematikle ilgilenmiştir.
- D) Adını duyurmasında Fermat'ın teoremi üzerine yaptığı eleştirilerin payı olmuştur.
- E) Einstein'ın görelilik kuramı üzerinde çalışması, saygın bir fizikçi olmasını sağlamıştır.

25. Edebiyat ürünlerini kültür tarihinin deposu sayan anlayış üzerine düşünürken tarih ve edebiyat araştırmacılarının durumunu tartışmak gerekir. Aslında her iki yaratıcı çabanın da kazı alanı ortaktır ve edebî metnin sunduğu geçmişe ait bulgular üzerinde edebiyatçı da tarihçi de farklı yöntemlerle çalışarak ortak bir noktada buluşabilir. Ancak aralarında temel bir fark vardır. Edebiyatçının kazı çalışmaları, yönünü geleceğe de çevirebilirken tarihinin bakışı geçmişle çerçevelenmiştir.

Bu parçaya göre edebiyat ve tarih araştırmacıları ile ilgili olarak

- I. Kaynakları ortak olsa da yaklaşım ve yöntemleri arasında belirgin farklılıklar vardır.
- II. İnsan ve toplumun bugünü ve geleceğine dair genel çıkarımlarda bulunurlar.
- III. Üzerinde çalıştıkları kültür malzemesini değiştirmeyi amaçlarlar.

yargılarından hangilerine ulaşılabilir?

- A) Yalnız I
- B) Yalnız II
- C) Yalnız III
- D) I ve II
- E) II ve III

26. Son yıllarda yapılan araştırmalar, bugüne kadar koleksiyonculuk veya hobi olarak tanımlanan davranışın istifleme bağımlılığı olarak adlandırılan bir tür hastalık olabileceğini gösteriyor. Yıllardır biriktirilen bir yığın eşyanın içinden hangilerinin kalıp hangilerinin gideceğine karar verme anında kişiler, büyük ihtimalle hastalıklarıyla ilk kez yüzleşiyorlar. Küçük ve işine hiç yaramayan/yaramayacak bir şeyi bile gözden çıkarmak, istifçilerde derin travmatik üzüntüler yaratabiliyor.

Bu parçada istifleme bağımlılığıyla ilgili olarak aşağıdakilerden hangisine değinilmiştir?

- A) Yakın bir geçmişte yapılan araştırmalarla tedavisi bulunmuş bir hastalık olduğuna
- B) Kişinin, yakın çevresinin uyarılarını dikkate alarak bu bağımlılıktan kurtulabileceğine
- C) Hastaların, eşyalara duydukları bağlılığı psikolojik bir rahatsızlık olarak kabul ettiklerine
- D) Tedavi sürecinde, depresyona neden olabilecek müdahalelerden kaçınmak gerektiğine
- E) Eşyalarından ayrılma durumuyla karşı karşıya kaldıklarında bağımlı kişilerin verdiği tepkiye

27. Başından beri biliyordum ki şu veya bu çevreden, şu veya bu sayıda insanın iyi ve sevimli bulunduğu şairler yazmak mümkündür. Böyle bir yolu seçtikten sonra, geçerli ortalamayı fark etmek ve o normlara uygun olanı üretmeyi sürdürmek de gerekiyordu. Ama böylesi bir yol, toplumun beğenilerinin sürekli değişmesi yüzünden beni kendime yabancılaşma batağına götürdü.

Aşağıdakilerden hangisi bu sözleri söyleyen bir şairin düşüncesi olabilir?

- A) Toplumdaki eğilimleri izlemek şairlerin üretkenliğini yitirmesine neden olur.
- B) Bir şair beğenilmek için ortalamanın üstünde ürünler ortaya koymalıdır.
- C) Geniş okur kitlelerinin bir şairi takdir etmesi onun sanatı adına kötüye işarettir.
- D) Şiirin kurallarına sıkı sıkıya uymamak şairin popülaritesini olumsuz etkiler.
- E) Bir şairi özgün ve özel kılan, popüler olanı tercih etmiyor olmasıdır.

28. İsviçre’de son dönemlerde uyku üzerine yapılan bir araştırmada uyku sorunu olmayan 12 sağlıklı erkek, iki hafta arayla karanlık bir odada öğleden sonra 45 dakikalık uykuya yatırılmıştır. İlk seferde sabit, ikincisinde ise hafifçe sallanan bir yatakta uyumaları sağlanarak, çalışmaya katılan kişilerin beyinlerinin elektriksel etkinliği EEG yöntemi ile ölçülmüştür. Araştırma sonucunda ise sallanarak uyuyanların hafif uyku (N1) ve derin uyku (N2) aşamalarına daha çabuk geçtikleri, derin uykuda daha uzun süre kaldıkları saptanmıştır.

Bu parçada sözü edilen araştırmanın amacı aşağıdakilerden hangisidir?

- A) Gündüz uykusunun sağlık üzerindeki etkilerini gözlemlenmek
- B) Uyku düzeni konusunda erkekler arasındaki farklılıkları belirlemek
- C) Uyku rahatsızlıklarının uyku süresi ile ilişkisini ortaya koymak
- D) Cinsiyet faktörünün uyku süresi üzerindeki etkisini tespit etmek
- E) Uykuya dalmak ile sallanmak arasındaki ilişkiyi incelemek

29. Zaman zaman susuzlukla karşı karşıya kalan büyük kentlerin asıl sorunu su kaynağı sıkıntısı değil, eldeki suyun kalitesinin düşmesidir. Diğer bir deyişle kentte sınırsız su kaynağı bulunsa da susuzluk yaşanabilir. Bunun en büyük nedeni ise kirlenmedir. İçme suyu kaynaklarının kirlilik derecesi belli bir düzeyi aştıktan sonra en gelişmiş arıtma tesisleri bile bu kaynakları temizlemede yetersiz kalır. Bu sebeple susuzluk sorununun çözümü için yeni su kaynaklarının aranmasından çok baraj havzalarının daha iyi korunması, atıkların ayrıştırılarak yeniden kullanılması, çöplerin kontrol tesislerinde toplanması gibi uygulamalara gidilmesi gerekir.

Bu parçadan aşağıdakilerin hangisine ulaşılabılır?

- A) Çöp ve atıkların dönüştürülmesindeki başarısızlığın su kaynaklarını azalttığına
- B) Baraj havzalarındaki yetersizliğin günümüz kentlerinin öncelikli sorunu olduğuna
- C) Su kaynaklarının kirlenmesinin arıtma tesislerindeki yetersizlikten kaynaklandığına
- D) Temiz su kaynaklarındaki azalmanın atık kontrolü uygulamalarını önemli kıldığına
- E) Doğal su kaynaklarındaki kirlenmenin alternatif kaynak arayışlarını hızlandırdığına

30. "Bir ülkenin uygarlık düzeyi o ülkenin kâğıt tüketimi ile ölçülür." diye bir söz hatırlıyorum. Bana göre bu düşünce artık geçerliliğini kaybetti. Çünkü bugün kitap yazmak ve yayımlamak kâğıt kullanmadan da mümkün. İleride ne olacağı bilinmez ama şimdilik basılı ve elektronik kitaplar varlığını birlikte devam ettiriyor.

Bu parçadan aşağıdaki yargıların hangisine ulaşılabilir?

- A) Uygarlık üretme ve yayma aracı olan kâğıt, işlevini günümüzün teknolojik imkânlarıyla paylaşarak sürdürmektedir.
- B) Uygarlığın önemli öğelerinden olan kâğıdın tüketimi ile üretimi arasındaki denge gelişmişlik göstergesidir.
- C) Uygarlığın gelişimi ve yayılımı ile kâğıt tüketimini ilişkilendirmenin ne kadar doğru olduğu bugün açıkça görülmektedir.
- D) Uygarlığı yalnız kâğıt üzerinden ölçmeye çalışmanın ne denli sığ bir düşünce olduğu yaygın olarak bilinmektedir.
- E) Uygarlığın günümüzde ulaştığı nokta, elektronik kitap çağının kapılarını sonuna kadar açmaktadır.

31. Bu eser, insanın içine taş gibi oturan öykülerle dolu olmasıyla ayrı bir yere sahip. Çoğunda olaylar doğrudan anlatılmıyor; en çok da bu hâliyle öyküler, didaktik olmanın tuzağına düşmekten kurtuluyor. Yazarın öykülerindeki bazı noktaları kendince birleştiren okur, metne dâhil olarak yine kendince anlamlar üretiyor. Anlatılan öyküler içimizden birilerinin hikâyesi olduğundan okur, günün sonunda iç açıcı bir resimle karşılaşmıyor. Çünkü her öykü, toplumun bireye sık sık yaşattığı haksızlığa uğramışlık duygusunu okuruna hissettiriyor.

Aşağıdakilerden hangisi bu parçada söz edilen öykülerin bir özelliği değildir?

- A) Etkileyicilik
- B) Yoruma açıklık
- C) Yaşanmışlık
- D) Farklılık
- E) Yol göstericilik

32. Kurşun kalem yapan yaşlı bir adam, yaptığı kalemleri satıcıya vermek için kutuya koyarken içlerinden birini kenara ayırdı ve ona "Olabileceğin en iyi kalem olmak istiyorsan şu beş şeyi asla unutma!" diyerek şu öğütleri verdi:

- Hayatta başarılı olmak için öncelikle kendini, seni kullanmayı bilen bir kişinin ellerine almasına izin vermelisin.
- Zaman zaman ucunu açacaklar ve bu sana acı verecek fakat daha iyi bir kalem olmak için buna katlanmalısın.
- Yaptığın yanlışlara üzülme, yeniden yazma fırsatın olacak daima. Bu fırsatları kaçıрма!
- Seni sen yapan en önemli parçanın, içindeki kurşun olduğunu unutma!
- Üzerinde dolaştığın her yüzeye kendine ait bir işaret bırakmalısın ve yazmaya devam etmelisin.

Bu parçada kurşun kalem ustasının kaleme verdiği öğütlere göre, kalemin başarı için sahip olması gereken özellikler arasında aşağıdakilerin hangisi yoktur?

- A) Gerçekçi olmak
- B) Sabırlı olmak
- C) Umudunu korumak
- D) Özünü hatırlamak
- E) Özgün olmak

33. Edebiyatımızın unutulmaz eseri *Hababam Sınıfı*, dünün video izleyicisinden bugünün üç boyutlu sinema tutkunlarına, milyonların gönlünde taht kuralı 40 yılı geçiyor. Her zaman zevkle izlediğimiz, kahkahalar attığımız, içimizi ısıtan *Hababam Sınıfı*, hepimizden bir parça bulundurur. Filmin bu başarısında yazarı Rifat Ilgaz kadar yönetmeni Ertem Eğilmez'in de rolü büyüktür. Belirtilmesi gereken bir husus da filmin hepimizin aşına olduğu müziğidir. Yavaş çalındığında insana hüznün, hızlı çalındığında coşku veren ve *Hababam Sınıfı*'ni zihnimize kazıyan müzik, Melih Kibar'ın bestesidir. Müzisyen bu eseriyle Altın Portakal Film Festivali'nde "En İyi Film Müziği Ödülü"nü almıştır.

Bu parçada *Hababam Sınıfı*'yla ilgili olarak aşağıdakilerden hangisine değinilmemiştir?

- A) Başarısında nelerin etkili olduğuna
- B) Seyircinin iç dünyasındaki tesirine
- C) Türk sinemasında yarattığı etkilere
- D) Edebî bir eserden sinemaya uyarlandığına
- E) Farklı kuşaklara hitap ettiğine

34. **Gazeteci:**

(I) ----

Uzman:

— Bütün enerji kaynaklarını hesaba kattığımızda enerji tüketiminin XIX. yüzyılın başından beri on kat arttığını görüyoruz. Bunda dünya nüfusunun artmaya devam etmesinin yanı sıra teknolojik ilerlemelerin de payı var. Ülkelerin farklı enerji kaynaklarını bir arada kullanmaya başladığını da söylemek lazım.

Gazeteci:

(II) ----

Uzman:

— Ülkeden ülkeye değişiklik gösterse de petrol dünya genelinde tahtını bırakmış değil. Hatta II. Dünya Savaşı'nın sona erdiği 1945 yılına göre yıllık tüketiminin dört katına çıktığını biliyoruz. Petrol tüm dünyada kullanılan enerjinin üçte birini sağlamayı sürdürüyor. Onu sırasıyla kömür, gaz, yenilenebilir enerji kaynakları ve nükleer enerji izliyor.

Bu diyalogda boş bırakılan yerlere aşağıdakilerden hangisi sırasıyla getirilmelidir?

- A) (I) Nüfus hareketliliğinin enerji gereksinimi ile ilişkisi nedir?
(II) Yenilenebilir enerji kullanımı hakkında ne söyleyebilirsiniz?
- B) (I) Dünyadaki enerji kaynaklarının azalmasını nelere bağlıyorsunuz?
(II) Siz de petrolün birincil enerji kaynağı olduğunu mu düşünüyorsunuz?
- C) (I) Dünyada enerji tüketiminin nasıl bir seyir izlediğini düşünüyorsunuz?
(II) Gelecekte başlıca enerji kaynaklarının hangileri olacağını öngörüyorsunuz?
- D) (I) Teknolojinin yanı sıra enerji tüketiminde sizce neler etkili?
(II) Gelecekte petrole bağımlı olmaktan kurtulacak mıyız?
- E) (I) Günümüzde üretilen enerji, tüketim ihtiyacını karşılayabiliyor mu?
(II) Günümüz insanı hangi enerji kaynaklarını kullanmayı tercih ediyor?

35. - 36. soruları aşağıdaki parçaya göre cevaplayınız.

Gelenek ve inançlarımızda servi ağacı, insanın doğumdan ölüme kadar var olma çabasının bir sembolü olarak görülmüştür. Mevsimlerin zorlu şartlarına rağmen yeşilliğini hiç kaybetmemesi ve dayanıklı olması ile serviler, hayatı tasvir etmektedir. Gövdesi semaya dik bir şekilde uzandığı için de servinin doğruluğu temsil ettiğine inanılmaktadır. Onunla ilgili başka bir inanış da insana iyi şans getirdiği ve onu koruduğudur. Ayrıca serviler, eski Türk kültüründe bolluk ve bereketi simgeleyen "hayat ağacı" olarak da nitelendirilmiştir. Ağacın mevsim şartlarına rağmen hep yeşil kalması ise ölümsüzlüğü simgeler. Aynı zamanda minareyi andıran servi, Osmanlı kültüründe de hayat ağacına benzetilmiş ve dallarına konmuş kuşların, hayatın içindeki canlıları temsil ettiği düşünülmüştür.

35. Bu parçaya göre servi ağacıyla ilgili inanışların ortaya çıkmasının temel nedeni aşağıdakilerden hangisidir?

- A) Diğer ağaçlara göre daha geniş bir alana yayılması
- B) İnsan topluluklarının yaşamına fayda sağlaması
- C) İnsanın fiziksel özellikleriyle benzerlik göstermesi
- D) Kimi özelliklerinden dolayı ona sembolik bir değer atfedilmesi
- E) Ömrünün uzunluk bakımından insan ömrüne denk olması

36. Bu parçadan hareketle aşağıdaki yargıların hangisine ulaşılabilir?

- A) Toplumun farklı katmanları tarafından benimsenen değerler kolayca yaygınlaşır.
- B) Hayatı anlamlandırırken doğadaki varlıklardan ve onların özelliklerinden faydalanılır.
- C) Hayatın zorluklarına karşı çıkabilmek için bazı kültürel ve toplumsal değerler üretilir.
- D) Doğa olaylarını doğru yorumlayabilen toplumlar, yaşamı ve ölümü daha iyi anlayabilir.
- E) Doğadaki nesnelere anlam yüklenirken geçmişten gelen tecrübelerden yararlanılır.

37. - 38. soruları aşağıdaki parçaya göre cevaplayınız.

Eskiden güvenlik şirketleri, piyasadan ikinci el bilgisayar ve sabit diskleri toplar, bunlardan kurtardığı verilere ilişkin de raporlar yayımlardı. Bu raporlar bize "Siz bilgisayarınızdan özel bilgileri sildiğinizi sanıyorsunuz ama bu işi düzgün yapmazsanız sildiklerinize başkaları kolaylıkla ulaşabilir." mesajını verirdi. Geçtiğimiz aylarda bir güvenlik şirketi, benzer konuda yeni bir çalışmayı akıllı cep telefonlarıyla gerçekleştirdi. Şirket, kullanılmış 20 telefonu piyasadan toplayarak veri kurtarma prosedürlerini uyguladı ve telefonlardan çıkan verileri değerlendirdi. Bu uygulamadan elde edilen sonuçlar şaşırtıcıydı. Şirket sadece 20 telefondan; yaklaşık 40 bin fotoğraf, 1000 *İnternet* arama geçmişi, 750 e-posta ve kısa mesaj hatta bir adet onaylanmış kredi kartı bilgisine ulaştığını raporladı.

37. Bu parçada söz edilen araştırmanın sonucundan hareketle aşağıdakilerin hangisine ulaşılabilir?

- A) Teknoloji, yaptığımız işlemleri koruyabildiği ve ileriki aşamalarda tekrar kullanıma sunabildiği için kişilerin hayatına kolaylık getirebilir.
- B) Farklı uygulama ve araştırmalarla desteklenmediği sürece teknolojinin gelişim hızının ne kadar şaşırtıcı olacağını görmek zaman gerektirir.
- C) Elektronik cihazlardaki bilgiler silinmiş gibi görünse de başkalarının bu bilgilere erişebilme imkânının olması tehlike oluşturabilir.
- D) Akıllı telefonlardaki kişisel veriler, suçluların yakalanmasında ve hangi suçların işlendiğinin belirlenmesinde yol gösterici olabilir.
- E) Elektronik cihazlardaki verilerin silindikten sonra bile kurtarılmasına imkân veren teknoloji, bu cihazların üretim aşamasında kullanılabilir.

38. Bu parçada belirtilen eski ve yeni araştırmalar;

- I. incelenen teknolojik araçlar,
- II. çıkış noktaları,
- III. ulaşılan sonuçlar

bakımından karşılaştırıldığında hangilerinin benzeştiği söylenebilir?

- A) Yalnız I
- B) Yalnız II
- C) I ve III
- D) II ve III
- E) I, II ve III

39. - 40. soruları aşağıdaki parçaya göre cevaplayınız.

1815 yılının nisan ayında Endonezya'daki Tambora Yanardağı'nda büyük bir patlama oldu. Yanardağın yakınındaki yerleşim bölgeleri volkanik külle kaplandı, atmosfere milyonlarca ton toz ve volkanik kül karıştı. Yanardağdan çıkan gazlar yoğunlaşarak aerosol bulutları oluşturdu. Bu bulutlar yeryüzünün soğumasına neden oldu. Küresel sıcaklık düştü, iklimler geçici olarak değişti. 1816 yılında Kuzey Yarımküre'nin büyük bölümünde sıcak bir yaz mevsimi yaşanmadı. Avrupa ve Kuzey Amerika'da soğuk havanın ekinleri tahrip etmesiyle başlayan kıtlık nedeniyle salgın hastalıklar baş gösterdi. Yeryüzündeki etkileri zamanla azalsa da patlama, edebiyat ve sanat dünyası üzerinde kalıcı izler bıraktı. Patlamanın edebiyat dünyasına kazandırdığı eserlerin başında ise *Frankenstein* adlı roman geliyordu. 1816 yazında İngiliz yazar Mary Shelley, bu doğa olayı yüzünden günlerce kapalı alanda yaşamak zorunda kaldı ve 1818'de yayımlanan ünlü korku romanını işte bu günlerde kaleme aldı.

39. Bu parçada Tambora Yanardağı'nın patlamasıyla ilgili olarak aşağıdakilerden hangisine değinilmemiştir?

- A) Kültürel yaşama olan etkilerine
- B) Bazı bölgelerde neden olduğu kuraklığa
- C) Etkisinin hissedildiği coğrafi bölgelere
- D) Dünyanın ısınması üzerindeki etkisine
- E) Atmosferde yarattığı değişikliklere

40. Tambora Yanardağı patlaması sonrasında Mary Shelley'nin ünlü romanı *Frankenstein*'i yazmasıyla aşağıdaki sözlerden hangisi ilişkilendirilebilir?

- A) Dalgaların kıyıya sürüklediği çer çöp, ıssız adadaki kişi için hazine değerindedir.
- B) Rüzgârın uğultusu sadece kulübesinin korunaklı duvarları arasındaki kişiye güzel gelir.
- C) Bir çöl bedevisi için kum fırtınası, gündelik hayatın küçük cilvelerinden biridir.
- D) Burada sel olup akan yağmurun hangi köydeki güle can suyu olduğunu bilemezsin.
- E) Yangının küle çevirdiklerini, ne kadar zaman geçerse geçsin yeniden yeşertemezsin.

1. Bu testte sırasıyla, Tarih (1-5), Coğrafya (6-10), Felsefe (11-15), Din Kültürü ve Ahlak Bilgisi (16-20), Din Kültürü ve Ahlak Bilgisi dersini yasal olarak almak zorunda olmayan veya farklı müfredat ile alanlar için Felsefe (21-25) alanlarına ait toplam 25 soru vardır.

2. Cevaplarınızı, cevap kâğıdının Sosyal Bilimler Testi için ayrılan kısmına işaretleyiniz.

1. Ammianus, "Hunlar piyade olarak savaşmaya hiç alışkın değillerdi. Şaşılacak kadar uzak mesafelere attıkları ve demir kadar sert ve öldürücü sivri kemikten uçlu oklarını atmada gösterdikleri maharete hiç kimse erişemezdi... Hunlar iyi savaşçılar olup yay ve kement kullanmakta eşsizdirler." demiştir.

Yalnız bu bilgiye göre Hunlarla ilgili olarak;

- I. orduda onlu sistemi oluşturdukları,
- II. savaş aletlerini etkin kullandıkları,
- III. savaşlarda hilal taktiğini uyguladıkları

ifadelerinden hangilerine ulaşılabılır?

- A) Yalnız I B) Yalnız II C) Yalnız III
D) I ve II E) I ve III

2. Gazneli hükümdarı Sultan Mahmut, bir gün mezâlim divanında iken; bir tacir, Şehzade Mesut'un kendisinden altmış bin dinarlık kumaş aldığından ancak parasını ödemediğinden şikâyet eder. Tacirin, hakkını aramak istediğini dile getirmesi üzerine Sultan Mahmut, taciri haklı bulur ve alacağıнын hemen ödenmesini emreder.

Gazneli Devleti'nde yaşanan bu durumla ilgili olarak aşağıdakilerden hangisi söylenebilir?

- A) Dava açmanın sultanın iznine bağlı olduğu
B) Mezâlim divanının Gaznelilere özgü bir kurum olduğu
C) Sultanın gerektiği durumlarda yargı kararı verebildiği
D) Mezâlim divanının yalnızca ticari davalara bakmak için kurulduğu
E) Ticari konuların İslam hukukunun dışında bulunduğu

3.



1340'larda Osmanlıların egemenlik alanını gösteren bu haritaya göre aşağıdakilerden hangisi söylenemez?

- A) Anadolu'da Beylikler Dönemi'nin devam ettiği
B) Selanik'in, Bizans hâkimiyetinde bulunduğu
C) Osmanlıların topraklarının gaza için uygun konumda olduğu
D) Osmanlıların Rumeli'ye geçtiği
E) Kuzey Ege'deki bazı adaların Bizans'a ait olduğu

4. Mondros Mütarekesi'nden sonra kurulan millî cemiyetlerle ilgili olarak aşağıdakilerden hangisi söylenemez?

- A) Mütareke sonrasındaki işgalleri protesto eden mitingler ve gösteriler düzenlemişlerdir.
B) Kongrelerin toplanmasında rol oynamışlardır.
C) Ülkede yeni bir rejim kurmayı amaçlamışlardır.
D) Millî Mücadele'nin teşkilatlanmasında etkili olmuşlardır.
E) Kuvayimilliyeye için silah ve malzeme temin etmişlerdir.

5. II. Meşrutiyet Dönemi'nde İttihat ve Terakki Cemiyeti, toplumsal bütünlüğü sağlamak için ortak bir eğitim sistemine geçmek amacıyla çalışmalar yapmıştır.

II. Meşrutiyet Dönemi'nde sonuç alınamayan bu girişim Cumhuriyet Dönemi'ndeki hangi düzenleme ile başarıya ulaşmıştır?

- A) Tevhid-i Tedrisat Kanunu'nun kabul edilmesi
B) Üniversite reformunun yapılması
C) Yeni Türk alfabesi ile ilgili bir kanun çıkarılması
D) Millet mekteplerinin açılması
E) Türk Tarih Kurumunun kurulması

6. Aşağıda, bir yörenin bazı doğal ve beşerî özellikleri verilmiştir.

- Günlük ve yıllık sıcaklık farkları fazladır.
- Kış mevsiminde karın yerde kalma süresi uzundur.
- Sıcaklık farklarının fazla olması yörenin enerji ihtiyacını artırmaktadır.
- Yaz sıcaklıklarına bağlı olarak tarımda sulamaya duyulan ihtiyaç fazladır.

Bu özellikler Coğrafya'nın aşağıdaki hangi alt dalı ile daha fazla ilgilidir?

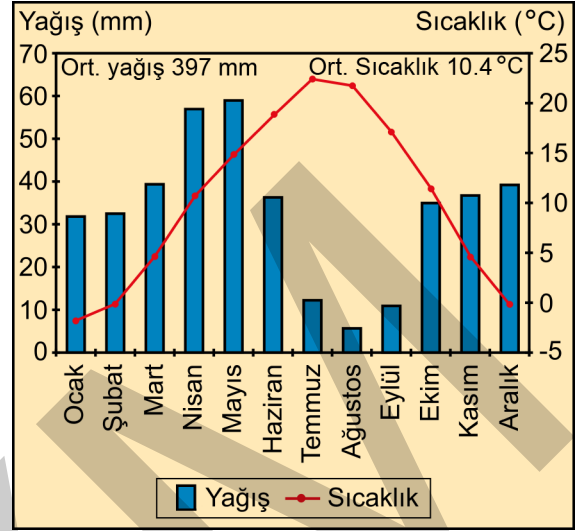
- A) Hidroğrafya B) Jeomorfoloji C) Klimatoloji
D) Biyocoğrafya E) Kartografya

7. I. Nüfusun ülke içinde dengeli dağılması
II. Beslenme sorunlarının yaşanması
III. İşsizlik sorunlarının artış göstermesi
IV. Yaşlı nüfus oranının artması

Yukarıdakilerden hangileri, bir ülkede hızlı nüfus artışı sonucu oluşabilecek durumlar arasında gösterilebilir?

- A) I ve II B) I ve III C) II ve III
D) II ve IV E) III ve IV

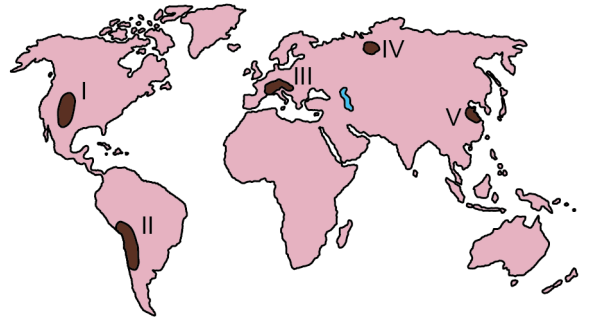
8. Aşağıda, Türkiye'de bir il merkezine ait yıllık ortalama yağış ve sıcaklık grafiği verilmiştir.



Grafikteki bilgiler dikkate alındığında bu il merkezinin aşağıdakilerden hangisi olduğu söylenebilir?

- A) Kayseri B) Şanlıurfa C) Erzurum
D) Bursa E) Ardahan

9. Aşağıdaki haritada bazı alanlar numaralandırılarak koyu renkle gösterilmiştir.



Bu alanlardan hangileri yüksek dağlık bölgeler arasında yer almaz?

- A) I ve II B) I ve III C) II ve IV
D) III ve V E) IV ve V

10. I. Sahra'nın güneyindeki ülkelerde 1984-1985 yıllarında görülen kuraklığa bağlı olarak 1 milyonun üzerinde insanın açlıktan hayatını kaybetmesi
- II. 2004 yılında depreme bağlı olarak gelişen ve Hint Okyanusu'nda etkili olan dev tsunaminin kıyı kesiminde 200 binden fazla insanın hayatını kaybetmesine neden olması
- III. Muson Asyası'nda 2004 yılının haziran ve temmuz aylarında meydana gelen aşırı yağışlar sonucu 300 kişinin yaşamını yitirmesi ve binlerce kişinin ise çeşitli şekillerde zarar görmesi
- IV. Şili'de 2010 yılının şubat ayında meydana gelen 8,8 büyüklüğündeki depremde 524 kişinin hayatını kaybetmesi ve binlerce kişinin evsiz kalması

Farklı zamanlarda meydana gelen yukarıdaki doğal afetlerden hangilerinin oluşumunda iklimin etkisi daha fazladır?

- A) I ve II B) I ve III C) II ve III
- D) II ve IV E) III ve IV

11. Sokrates bilgeliği tanımlarken onun özelliğinin her şeyi bilmek değil, neyi bilip neyi bilmediğini bilmek olduğunu söyler. Bu bakımdan felsefe bilgelik arayışı diye de tanımlanır. Felsefe öğreniminin insanlara kazandıracığı önemli özelliklerden biri de, insanların bildikleri konuda konuşmayı, bilmediklerindeyse susmayı öğrenmeleri olacaktır. Bu özelliği kazanan kişi fikri sorulduğunda bilmediği bir konuda insanları yanlış yönlendirmeyecektir. Örneğin biri ona "Hangi eylemlerimiz erdemlidir?" diye sorduğunda, "erdem" kavramının tanımına ilişkin bir bilgisi yoksa "Bilmiyorum." deyip, karşısındakini yanlış yönlendirmemiş olacaktır.

Bu parçada felsefenin aşağıdaki işlevlerinden hangisi vurgulanmaktadır?

- A) Hakikati arama ve ona ulaşma isteğini güçlendirmesi
- B) Kavramsal ve refleksif bilginin pratik yaşama aktarılmasını sağlaması
- C) Eleştirel bakış açısını geliştirmesi
- D) Tümel bilgiyi hedef edindirmesi
- E) Soruların yanıtlar kadar önemli olduğunun farkındalığını kazandırması

12. İnsanların yüzyıllardan beri doğru olarak kabul ettikleri bilgilerin bile bir gün yanlış olduğu anlaşılabilir. Örneğin yüzyıllarca Aristoteles fiziğiyle desteklenen Batlamyus astronomisine göre Dünya'nın evrenin merkezinde hareketsiz bir şekilde durduğu doğru ve kesin bir bilgi olarak kabul edilmiştir. Oysa modern çağdaki bilimsel gelişmeler bu teorinin yanlış olduğunu gösterdi. Acaba gelecek yüzyıllarda yeni bilimsel gelişmelerle şu anda doğru ve kesin olarak kabul ettiğimiz Newton fiziği ve Kepler astronomisinin de yanlış olduğu ortaya çıkabilir mi? Bundan kuşku duymamızı kim, nasıl engelleyebilir?

Bu parçada aşağıdaki sorulardan hangisi tartışılmaktadır?

- A) Bilginin kaynağı nedir?
- B) İnsan bilgisinin bir sınırı var mıdır?
- C) Bilimselliğin ölçütü nedir?
- D) Doğru bilgi mümkün müdür?
- E) Bilginin değeri nedir?

13. Beynin fotoğrafı, zihnin veya bilincin fotoğrafı değildir. Fiziksel bir şey olmadığı için zihnin bir fotoğrafı olamaz. Bu yüzden büyük olasılıkla kaynağı zihin olduğu için bir inancın, düşüncenin, algının, imgelemin, arzunun ve duygunun fotoğrafını da çekemeyiz. Çünkü zihin ve beden birbirinden farklı iki tözdür. Düşünmemizi sağlayan beynimiz değil zihnimizdir.

Bu parçadaki görüşler aşağıdaki varlık anlayışlarından hangisiyle açıklanır?

- A) Herakleitos'un oluşu esas alan anlayışı
- B) Descartes'ın düalist anlayışı
- C) Husserl'in fenomenolojik anlayışı
- D) Hegel'in idealist anlayışı
- E) La Mettrie'nin maddeci anlayışı

14. Aristoteles'e göre ahlakta bazı davranışlar amaç, bazıları araçtır. Örneğin insanların çoğu zenginliği arzular ve elde etmeye çalışır. Ancak onlar için zenginlik, zenginlik olarak amaç mıdır; yoksa zenginlikle elde etmek istedikleri başka bir amaç, mesela haz veya ün mü söz konusudur? Bu durumda insanların eylemlerinde peşinden koştukları iyi, kendisinden öte herhangi bir şeyin elde edilmesi için "araç olarak istenmeyen"dir. İşte insanın bizzatı kendisi için istediği bu nihai iyi, mutluluğun ta kendisidir.

Bu parçadan aşağıdaki yargıların hangisine ulaşılabilir?

- A) Ahlaken iyi davranış insanın koşullarına göre değişir.
B) Bir eylemin ahlaken iyiliği başkalarına sağladığı yarara bağlıdır.
C) İnsanın nihai amacı olan mutluluk; esenlik ve fayda gibi değerlerin toplamıdır.
D) Başka bir amaç için yapılan ahlaki bir eylem insana mutluluk verir.
E) Niçin diye sorulduğunda başka bir amaca işaret etmeyen eylem ahlaken iyidir.

15. Gazali, doğadaki nedenselliğe yönelik şüpheli bir yaklaşım sergiler. Ona göre filozoflar, doğadaki düzeni doğa yasası dedikleri ilkelerle açıklar. Buna göre doğada olup biten hiçbir şey bu ilkelerle aykırı olamaz. Ancak Gazali için filozofların nedensellik dedikleri şey, terimlerin ve bu terimlere karşılık gelen nesnelere birbirini gerektirmesi değil, olayların birbiri ardı sıra gelmesinden ibarettir. Çünkü ateş ile yanma arasındaki ilişkiye bakıldığında ateşin yakmayabileceğini düşünmek mantıksal olarak çelişkili değildir.

Gazali'nin bu parçada nedensellik ile ilgili düşüncesini aşağıdakilerden hangisi ifade etmektedir?

- A) Doğadaki her şey doğal nedenlerden meydana gelir.
B) Aynı koşullar altında hep aynı sonuçlar ortaya çıkar.
C) Neden sonuç ilişkisi tanrısal iradenin sonucudur.
D) Doğa denilen karmaşık yapıda, mucize veya rastlantı söz konusu değildir.
E) Neden ve sonuç arasında doğada zorunlu bir ilişki yoktur.

16.-20. soruları Din Kültürü ve Ahlak Bilgisi dersini yasal olarak almak zorunda olanlar ve İmam Hatip Okulları öğrencileri/mezunları cevaplayacaktır.

16. "İş bitirilince Şeytan da diyecek ki: 'Şüphesiz Allah, size gerçek olanı söz verdi. Ben de size söz verdim ama yalancı çıktım. Zaten benim sizi zorlayacak bir gücüm yoktu. Ben sadece sizi çağırdım, siz de hemen bana geliverdiniz. O hâlde beni kınamayın, kendinizi kınayın. Artık ben sizi kurtaramam, siz de beni kurtaramazsınız. Şüphesiz ben, daha önce sizin, beni Allah'a ortak koşmanızı kabul etmemiştim. Şüphesiz, zalimlere elem dolu bir azap vardır.'" (İbrahim, 14:22)

Bu ayette vurgulanan husus aşağıdakilerden hangisidir?

- A) Sorumluluğun bireyselliği
B) Hak ve özgürlük dengesi
C) İlahi cezanın gerekliliği
D) Öz eleştirinin önemi
E) Kötülüğün göreceliliği

17. Teyemmümle ilgili olarak,

- I. Abdestte farz olan yüz, el, baş ve ayakların mesh edilmesiyle yapılır.
II. Abdesti bozan durumların hepsi teyemmümü de bozar.
III. Gerekteğinde hem abdest hem de gusül yerine yapılabilir.

yargılarından hangileri doğrudur?

- A) Yalnız I B) Yalnız II C) Yalnız III
D) I ve III E) II ve III

18. • “Senden önce gönderdiğimiz bütün peygamberler de hiç şüphesiz yemek yer, çarşıda dolaşırlardı. (...)” (Furkan, 25:20)
- “De ki: Ben size ‘Allah’ın hazineleri benim yanımdadır.’ demiyorum. Ben gaybı da bilmem. Size ‘Ben bir meleğim.’ de demiyorum. Ben sadece bana gönderilen vahye uyuyorum. (...)” (Enam, 6:50)

Mekkeli müşriklerin Hz. Muhammed’le ilgili hangi itirazı, bu ayetlerin inişinin temel sebebidir?

- A) Önceki peygamberlere benzer şekilde davranması
- B) Güçsüz bir kabileye mensup olması
- C) Allah tarafından zenginlik verilmemiş olması
- D) Kendileri gibi bir insan olması
- E) Yetim ve öksüz olarak yetişmesi
19. “... insanlar arasında hiçbir bilgisi, yol göstericisi ve aydınlatıcı bir kitabı olmadan Allah hakkında tartışıp duranlar vardır. Kendilerine, ‘Allah’ın indirdiğine uyun!’ denildiği zaman, ‘Hayır, biz babalarımızı üzerinde bulduğumuz şeye uyarız.’ derler. Şeytan, kendilerini cehennem azabına çağırıyor olsa da mı?” (Lokman, 31:20-21)

Bu ayetlerde kınanan hususu en iyi ifade eden kavram aşağıdakilerden hangisidir?

- A) Kibir B) Taassup C) Riya
- D) Gıybet E) Haset

20. İslam dini, insanların ahlaklı olmalarına önem verir ve bu konuda öğütlerde bulunur. Nitekim Hz. Muhammed’in “Ben güzel ahlakı tamamlamak için gönderildim.” sözü de bunu gösterir. Bu kapsamda İslam, bir olan Allah’a itaat temeline dayalı bir ahlakî ve dinî birlik sağlama vazifesini üstlenir. İnsanlar arasında bir üstünlüğün olmadığını, Allah katındaki üstünlüğün de ancak takva ile olabileceğini belirtir. Dolayısıyla İslam, yaratılmışlara karşı merhametli olmayı, güvenilirliği, sevgiyi, fedakârlığı, iyi niyetli olmayı ve kötü davranışlardan uzak durmayı tavsiye eder.

Bu parçadan hareketle aşağıdakilerin hangisine ulaşamaz?

- A) İslam dini, ahlakî duygu ve düşüncelerin yaşantıya dönüşmesini ister.
- B) İyi ahlaklı bir kişi kendisi dışındaki insanların durumlarını da önemser.
- C) İslam ahlakı, temel motivasyonunu Allah inancından alır.
- D) İslam dini ahlakı, kurtuluşun yegâne yolu olarak öngörür.
- E) İslamın ahlak anlayışı bütün canlıları önemseyen kuşatıcı bir niteliğe sahiptir.

21.-25. soruları Din Kültürü ve Ahlak Bilgisi dersini yasal olarak almak zorunda olmayan veya farklı müfredat ile alanlar cevaplayacaktır.

21. Wittgenstein *Tractatus* isimli kitabının ön sözünde: “Bu kitap felsefe sorunlarını ele alıyor ve -sanıyorum- gösteriyor ki bu sorunların soru olarak ortaya çıkmaları, dilimizin mantığının yanlış anlaşılmasına dayanır. Kitabın bütün anlamı, şuna benzer bir sözde toplanabilir: Söylenbilir ne varsa, açık söylenebilir; üzerine konuşulamayan konusunda da susmalı.” demektedir.

Wittgenstein’in bu ifadeleri onu hangi felsefi anlayışa dâhil etmektedir?

- A) Çözümleyici Felsefe B) Yararcılık
- C) Görüngü Bilim D) Sezgicilik
- E) Eleştiricilik

22. İnsanın özüne ilişkin herhangi bir tanım varsa bu tanım tözsel değil işlevsel bir tanım olarak anlaşılmalıdır. İnsanı, ne metafiziksel özünü oluşturan bir ilkeyle ne de deneysel gözlemlerle araştırılabilecek herhangi bir doğal yeti veya içgüdü aracılığıyla tanımlayabiliriz. İnsanın ayırıcı niteliği metafiziksel doğası değil yaptığı işlerdir. Yapılan bu işler, insanlık halkasını tanımlayıp belirler. Dil, söylem, din, sanat, bilim ve tarih gibi edimler bu halkanın öğeleri ve çeşitli dilimleridir. Bu edimler soyutlanmış rastgele yaratılar değil daha çok işlevsel olan ortak bir bağ vasıtasıyla ortaya çıkmış unsurlardır.

Bu parçadan aşağıdaki yargıların hangisine ulaşılabilir?

- A) İnsanın neliği sorusu onun somut üretimlerine bakılarak cevaplandırılabilir.
- B) İnsanı farklı kılan, akli sayesinde fizikötesi bir varoluşa sahip olmasıdır.
- C) Bilimsel bir yöntemle insanın varlığının anlamı ortaya konabilir.
- D) Erdemli davranış, insanın doğasına uygun olanı yapmasıdır.
- E) İnsan doğası, karmaşık yapısı dolayısıyla tanımlanamaz.

23. Dışa vurumculuk akımına göre, sanatçının yaratma süreci bir eylemdir. Bu süreçte sanatçının duyguları, sezgileri, tavırları açığa çıkar ve yapıya yansır. Sanatın temeli nesne, yapıt veya ürün değil, sanatçının tecrübeleri ve hisleridir. Sanat eserinin değeri; yaratıcı ruhun tazeliği, bireyselliği, özgünlüğü ve içtenliği tarafından belirlenir. Sanatçının gerçekliğe bağlı kalmak, alımlayıcısının hoşuna gitmek veya takdirini kazanmak gibi bir sorumluluğu yoktur.

Bu parçada sanat eserinin aşağıdaki özelliklerinden hangisi vurgulanmaktadır?

- A) Kalıcı olma B) Yaratıcı olma
- C) Evrensel olma D) Temsil edici olma
- E) Kişisel olma

24. Platon için Demiurgos, yaratıcı değil de mimari bir Tanrı'dır. İdeaları model olarak fenomenler dünyasında maddeye şekil vermiştir. Platon'un öğrencisi Aristoteles'e göre Tanrı, varlığın yaratıcısı değil onun amacıdır. Aristoteles'ten önemli ölçüde etkilenen Farabi ise ölümsüz olduğuna inandığı ruhlar dâhil, tüm varlığın Tanrı'dan bir tür taşınmayla ortaya çıktığını ileri sürer. Orta Çağ'ın ünlü isimlerinden Anselmus ise Hristiyanlıktaki yaratılış anlayışını temel alarak Tanrı'nın her şeyi yoktan var ettiğini savunur.

Bu parça din felsefesinin aşağıdaki problemlerinden hangisiyle ilişkilidir?

- A) Tanrının varlığı
- B) Maddenin sonsuzluğu
- C) Tanrı evren ilişkisi
- D) Tanrının ezeli ebedî oluşu
- E) Ruhun ölümsüzlüğü

25. Rawls'a göre aristokraziyle yönetilen veya kast sisteminin hâkim olduğu toplumlar adil değildir. Çünkü onlar insanın doğuştan gelen farklı özelliklerini kendilerine göre üstün görüp içselleştirmiş, bu özellikleri devletin temeli yapmışlardır. Ancak Rawls için doğadaki bu rastlantısal durumlar, ölüm gibi değiştirilemez değildir. Eğer toplumsal sistemdeki kurumlar adaletin iki ilkesine göre düzenlenirse adil bir toplum ortaya çıkar. Bu ilkelerden biri eşit temel özgürlüklere sahip olma, diğeri de sosyal ve ekonomik eşitsizliğin giderilmesi için kanunların en az avantajlı olanın yararına olacak şekilde düzenlenmesidir.


Bu parçadan aşağıdaki yargıların hangisine ulaşılabilir?

- A) Adaletsizlik toplumsal yaşamın zorunlu sonucudur.
- B) Doğanın sunduğu adaletsizlik; özgürlük ve eşitlik ilkeleriyle giderilebilir.
- C) Doğuştan gelen farklı özellikler siyasi sistemler için zenginliktir.
- D) Adaletsiz toplumlarda insanlar kaderlerini kabul etmelidir.
- E) Adaletli toplumlarda toplumsal sınıflar doğuştan gelen farklılıklarla oluşur.

1. Bu testte 40 soru vardır.

2. Cevaplarınızı, cevap kâğıdının Temel Matematik Testi için ayrılan kısmına işaretleyiniz.

1. Aslı, doğum günü pastasını aşağıdaki gibi dört eş dilime ayırmıştır.

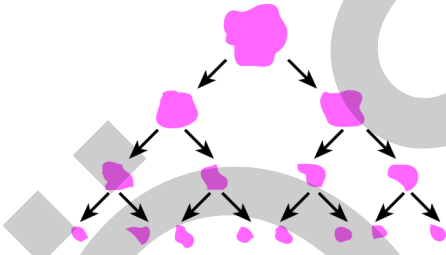


Sonra, bu pastanın bir dilimini Burcu, Cem ve Deniz arasında eşit miktarda paylaşmıştır.

Buna göre, bu pastadan Cem'in payına düşen miktarın pastanın tamamına oranı kaçtır?

- A) $\frac{1}{4}$ B) $\frac{1}{6}$ C) $\frac{1}{9}$
D) $\frac{1}{12}$ E) $\frac{1}{16}$

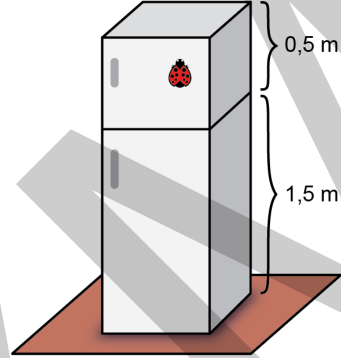
2. Eline bir oyun hamuru alan Melis, şekilde gösterildiği gibi her adımda elindeki her bir oyun hamurunu 2 parçaya ayırıyor ve 3. adım sonunda 8 parça oyun hamuru elde ediyor.



Melis başlangıçtan itibaren her adımda, elindeki her bir oyun hamurunu 2 yerine 3 parçaya ayırsaydı 4. adım sonunda kaç parça oyun hamuru elde ederdi?

- A) 12 B) 36 C) 51 D) 72 E) 81

3. İki bölmeli dikdörtgenler prizması şeklindeki bir buzdolabının alt bölümü 1,5 metre, üst bölümü ise 0,5 metre yüksekliğindedir. Buzdolabının üst bölümünün üzerine şeklindeki bir süs aşağıdaki gibi yapıştırılıyor.



Buna göre, yapıştırılan bu süsün yerden yüksekliği metre türünden aşağıdakilerden hangisi olabilir?


- A) $\sqrt{2}$ B) $\sqrt{3}$ C) $\sqrt{5}$ D) $\sqrt{6}$ E) $\sqrt{7}$

4. I. $\begin{bmatrix} -2 & \square & 2 \end{bmatrix}$
II. $\begin{bmatrix} 2 & \square & -2 \end{bmatrix}$
III. $\begin{bmatrix} -2 & \square & -2 \end{bmatrix}$

İfadelerindeki boş kutuların içine toplama (+), çıkarma (-) ve çarpma (×) sembolleri hangi sırayla yerleştirilirse üç işlemin sonucu da aynı sayıya eşit olur?

- | | I | II | III |
|----|---|----|-----|
| A) | + | × | - |
| B) | - | + | × |
| C) | - | × | + |
| D) | × | + | - |
| E) | × | - | + |






5. n kenarlı bir düzgün çokgenin içine yazılan bir a doğal sayısı ile oluşturulan sembol ile $n \cdot a^n$ sayısı gösterilmektedir.

Örneğin,  sembolü ile $3 \cdot 2^3 = 24$ sayısı gösterilmektedir.

Buna göre,

$$\square 1 \cdot \triangle 3$$

çarpımının değerini gösteren sembol aşağıdakilerden hangisidir?

- A)  B)  C) 
- D)  E) 

6. a , b ve c sıfırdan ve birbirinden farklı rakamlar olmak üzere, ondalık gösterimleri

$$\begin{aligned} K &= a, b \\ L &= b, c \\ M &= c, a \end{aligned}$$

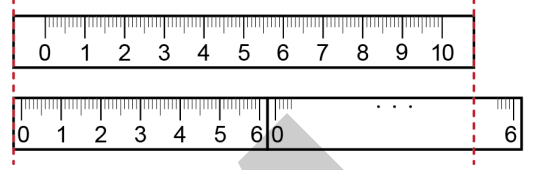
biçiminde olan üç sayı veriliyor.

Ondalık gösterimi verilen sayılarda sıralama konusunu yanlış öğrenen Alican, bu üç sayının sıralamasının, birler basamağı yerine onda birler basamağındaki değerlerin büyüklüğüne göre yapılacağını düşünerek $K < L < M$ sıralamasını elde ediyor.

Buna göre, bu sayıların doğru sıralaması aşağıdakilerden hangisidir?

- A) $K < M < L$ B) $L < K < M$ C) $L < M < K$
D) $M < K < L$ E) $M < L < K$

7. Her iki tarafında da 0,8 cm mesafe olan 10 cm'lik bir cetvelin altına, her iki tarafında da 0,2 cm mesafe olan 6 cm'lik özdeş iki cetvel, aralarında boşluk bırakılmadan uç uca birleştirilerek şekildeki gibi soldan hizalanmıştır.



Buna göre, 10 cm'lik cetvelin sağ kenarı 6 cm'lik cetvelin hangi noktasıyla hizalanmıştır?

- A) 4 B) 4,5 C) 4,8 D) 5 E) 5,2

8. Bir hava durumu spikeri pazar akşamı canlı yayında aşağıdaki açıklamayı yapmıştır.

“Bu hafta boyunca sıcaklığın 5 derece olduğu kentimizde yarından itibaren hava ani şekilde ısınacak ve kış, yerini adeta bahar havasına bırakacak. Pazartesi günü öğleden sonra kent genelinde hava sıcaklığı bir önceki güne göre 6 ila 10 derece artmış olacak.”

Bu bilgiye göre, Pazartesi günü öğleden sonra kentteki sıcaklığın alabileceği değerlerin aralığını ifade eden eşitsizlik aşağıdakilerden hangisidir?

- A) $|x - 13| \leq 2$ B) $|x - 10| \leq 6$
C) $|x - 6| \leq 5$ D) $|x - 1| \leq 6$
E) $|x - 11| \leq 2$

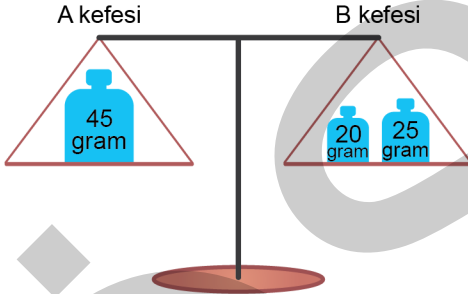
9. a, b ve c pozitif tam sayıları için
 $a(b + c)$
 ifadesi bir tek sayıya eşittir.

Buna göre,

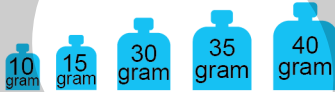
- I. $a^b + c$
 II. $b^c + a$
 III. $c^a + b$

ifadelerinden hangileri her zaman tek sayıya eşittir?

- A) Yalnız II B) Yalnız III C) I ve II
 D) II ve III E) I, II ve III
10. Üzerlerinde kütleleri yazılı olan ağırlıklar, eşit kollu bir terazinin kefelerine şekildeki gibi yerleştirilerek terazi dengelenmiştir.



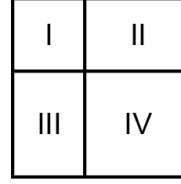
Aşağıda verilen ağırlıklardan biri terazinin B kefesine eklenip B kefesindeki ağırlıklardan biri A kefesine aktarıldığında bu terazi yine dengede kalmaktadır.



Buna göre, bu işlem sırasında B kefesine eklenen ağırlık kaç gramdır?

- A) 10 B) 15 C) 30 D) 35 E) 40

11. Kenar uzunluğu a birim olan bir kare, şekildeki gibi dört bölgeye ayrıldığında I numaralı bölge kenar uzunluğu b birim olan bir kare belirtmektedir.



Bu koşulu sağlayan her a ve b sayısı için

$$a^2 - 2ab + 2b^2$$

ifadesi hangi iki bölgenin alanları toplamına eşittir?

- A) I ve II B) I ve IV C) II ve III
 D) II ve IV E) III ve IV

12. Bir n doğal sayısının 9 katı, her bir basamağında 3 rakamı bulunan bir sayıya eşitse n sayısına üçsel sayı denir.

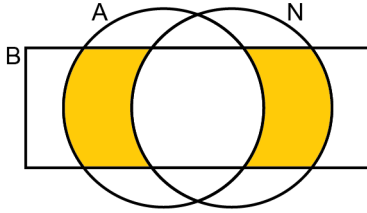
Buna göre, en küçük üçsel sayının rakamları toplamı kaçtır?

- A) 7 B) 8 C) 9 D) 10 E) 11

13. Aşağıdaki Venn şemasında

- A harfi ile başlayan isimler kümesi A,
- N harfi ile biten isimler kümesi N,
- 5 harfli isimler kümesi B

ile gösterilmiştir.



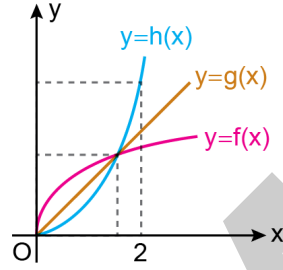
Buna göre,

$K = \{AÇELYA, AHMET, AYSUN, BEREN, KENAN, NERMİN\}$

kümesinin elemanlarından kaç tanesi şekildeki boyalı bölgeler ile gösterilen kümenin elemanıdır?

- A) 1 B) 2 C) 3 D) 4 E) 5

14. Dik koordinat düzleminde f, g ve h fonksiyonlarının grafikleri şekilde verilmiştir.



Buna göre, $0 < a < 2$ koşulunu sağlayan bir a gerçel sayısı için

- $f(a) < g(a)$ olduğunda $g(a) < h(a)$ olur.
- $g(a) < h(a)$ olduğunda $h(a) < f(a)$ olur.
- $h(a) < f(a)$ olduğunda $f(a) < g(a)$ olur.

İfadelerinden hangileri doğrudur?

- A) Yalnız I B) Yalnız II C) Yalnız III
D) I ve II E) I ve III

15. $P(x)$ bir polinom olmak üzere, $P(a) = 0$ eşitliğini sağlayan a sayısına bu polinomun bir kökü denir.

$P(x)$ ve $R(x)$ polinomları için

$$P(x) = x^2 - 1$$

$$R(x) = P(P(x))$$

eşitlikleri veriliyor.

Buna göre,

- 1
- 0
- 1

sayılarından hangileri $R(x)$ polinomunun köküdür?

- A) Yalnız I B) Yalnız II C) Yalnız III
D) I ve III E) II ve III

16. Türkiye'deki 81 ilin tamamını kapsayan bir projede; önce her bir ilde p tane park yapılması, sonra da yapılan her bir parka a tane ağaç dikilmesi planlanmıştır.

Fakat, bu planda yapılacak park ve dikilecek ağaç sayısı yeterli bulunmamış ve önce her bir ilde yapılması planlanan park sayısından 1 fazla sayıda park yapılmış, sonra da yapılan her bir parka dikilmesi planlanan sayıdan 1 fazla sayıda ağaç dikilmiştir.

Buna göre, son durumda dikilen toplam ağaç sayısı ile başlangıçta dikilmesi planlanan toplam ağaç sayısı arasındaki fark aşağıdakilerin hangisinde doğru olarak verilmiştir?

- A) 162
B) $81 \cdot a \cdot p$
C) $81 \cdot (a + p)$
D) $81 \cdot (a \cdot p + 1)$
E) $81 \cdot (a + p + 1)$
17. Bir veri grubundaki sayılar küçükten büyüğe doğru sıralandığında veri sayısı tek ise ortadaki sayıya, veri sayısı çift ise ortadaki iki sayının aritmetik ortalamasına o veri grubunun medyanı (ortanca), veri grubunda en çok tekrar eden sayıya ise o veri grubunun modu (tepe değer) denir.
Tam sayılardan oluşan ve küçükten büyüğe doğru sıralanmış
6, x , 10, y , 14, z , 23
veri grubunda sadece iki değer birbirine eşittir.
Bu veri grubunun mod, medyan ve aritmetik ortalama değerleri birbirine eşit olduğuna göre, z değeri kaçtır?
- A) 22 B) 21 C) 18 D) 16 E) 15

18. Belirli bir bölgede ev ve arsa alım satım işlemi yapan Ali Bey'in bu işlemlerde kullandığı birim fiyatlar tabloda verilmiştir.

	Alış fiyatı (TL)	Satış fiyatı (TL)
Ev (1 m^2)	3000	3200
Arsa (1 dönüm)	20 000	25 000

Ali Bey, 450 000 TL'ye aldığı bir evin satışından elde ettiği paranın tamamı ile bir arsa almış ve sonra bu arsayı da satmıştır.

Buna göre, Ali Bey'in bu arsa satışından elde ettiği kâr kaç TL'dir?

- A) 90 000 B) 105 000 C) 110 000
D) 120 000 E) 125 000

19. Üniversitede tanışan üç arkadaşın, tanıştıkları zamanki yaş ortalaması 20'dir. Belirli bir süre geçtikten sonra, bu üç arkadaş birer çocuğuyla birlikte bir araya gelmiş ve bu altı kişinin yaş ortalamasının yine 20 olduğu görülmüştür.

Bu üç arkadaşın, çocuklarıyla aralarındaki yaş farklarının 28, 30 ve 32 olduğu bilinmektedir.

Buna göre, bu üç arkadaş tanıştıktan kaç yıl sonra bir araya gelmiştir?

- A) 15 B) 16 C) 18 D) 20 E) 21

20. Kirazın kilogramını K TL'den, muzun kilogramını ise M TL'den satan bir manava gelen bir müşteri, 3 kg kiraz ve 3 kg muz alıp manava 30 TL veriyor. Sonrasında manav ile müşteri arasında aşağıdaki konuşma geçiyor.

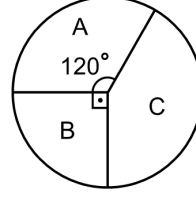
Manav: "Hiç bozuk param yok. Bunun yerine 1 kg kiraz daha vereyim."

Müşteri: "Daha fazla kiraz istemiyorum. Bunun yerine bana 1 kg muz daha ver, ben de sana 3 TL daha vereyim."

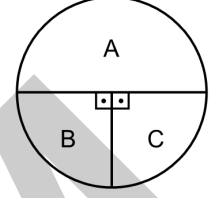
Buna göre, K + M toplamı kaçtır?

- A) 7 B) 7,5 C) 8 D) 8,5 E) 9

21. Belirli sayıda A, B ve C marka topların bulunduğu bir spor salonunda aynı marka olan her bir top eşit ağırlıktadır. Bu topların sayıca dağılımı 1. grafikte, toplam ağırlıklarının dağılımı ise 2. grafikte gösterilmiştir.



1. grafik



2. grafik

A, B ve C marka topların her birinin ağırlığı sırasıyla K_A , K_B ve K_C olduğuna göre, aşağıdaki sıralamalardan hangisi doğrudur?

- A) $K_A < K_B < K_C$ B) $K_A < K_C < K_B$
 C) $K_B < K_A < K_C$ D) $K_B < K_C < K_A$
 E) $K_C < K_B < K_A$


22. Bir ayakkabı fabrikasında üretilen her bir ayakkabının A ve B standartlarına göre belirlenen numara değerleri arasında doğrusal bir ilişki bulunmaktadır.

Bu fabrikada üretilen en küçük ayakkabının numara değeri A standardında 34, B standardında 7; en büyük ayakkabının numara değeri ise A standardında 46, B standardında 13'tür.

Buna göre, B standardında numara değeri 11,5 olan bir ayakkabının, A standardındaki numara değeri kaçtır?

- A) 43 B) 42 C) 41 D) 40 E) 39

23. Defne soldaki hesap makinesinde 29 sayısı ile iki basamaklı bir doğal sayıyı topluyor.



Defne'nin kardeşi Burcu ise rakamları bilmediği için ablasının bastığı tuşlarla aynı konumdaki tuşlara aynı sırada sağdaki hesap makinesinde basıyor.

Burcu'nun elde ettiği sonuç 95 olduğuna göre, Defne'nin elde ettiği sonuç kaçtır?

- A) 100 B) 103 C) 105 D) 107 E) 110

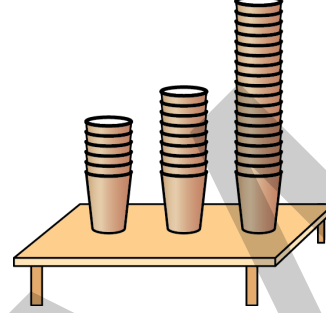
24. Arif bir tarifte, yaş mısırın kurutulduğunda ağırlığının % 20 oranında azaldığını, kurutulmuş mısırın ise patlatıldığında ağırlığının % 10 oranında azaldığını okumuştur. Sonra, bu oranlara uygun olarak 720 gram patlamış mısır elde etmek için yeterli miktarda yaş mısır satın almıştır.

Arif, aldığı yaş mısırın tamamını kurutup patlattıktan sonra istediği miktardan daha az patlamış mısır elde etmiş ve bu durumun tarifteki bir hatadan kaynaklandığını, % 20 olarak yazılan oranın aslında % 30 olması gerektiğini fark etmiştir.

Buna göre, Arif'in elde ettiği patlamış mısır miktarı kaç gramdır?

- A) 630 B) 640 C) 660 D) 680 E) 690

25. Filiz bir miktar özdeş karton bardağı iç içe koyarak bardak kuleleri oluşturuyor. Art arda olan her iki bardağın tabanları arasındaki uzaklık, oluşturduğu tüm bardak kulelerinde birbirine eşit oluyor. Sonra, bu kuleleri masanın üzerine koyarak yüksekliklerini ölçüyor.



Filiz, 6 ve 9 bardaklı iki kulenin yükseklikleri toplamının 18 bardaklı kulenin yüksekliğine eşit olduğunu görüyor.

Buna göre, 8 ve 12 bardaklı iki kulenin yükseklikleri toplamı kaç bardaklı kulenin yüksekliğine eşit olur?

- A) 23 B) 24 C) 26 D) 27 E) 29

26. Bir açılışa katılan 25 davetlinin her biri için mandalina suyu, nar suyu ve portakal suyunun her birinden birer bardak hazırlanmış ve davetlilere ikram edilmiştir. İkram edilen bu içeceklerle ilgili aşağıdakiler bilinmektedir.

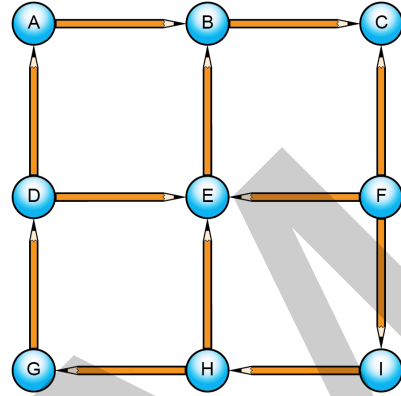
- Tüm davetliler en az bir çeşit içecek almıştır.
- Aynı çeşit içecekten birden fazla bardak alan davetli bulunmamaktadır.
- Yalnızca iki çeşit içecek alan davetli bulunmamaktadır.

Açılış sonunda 7 bardak mandalina suyu, 8 bardak nar suyu ve 9 bardak portakal suyunun alınmadığı belirlenmiştir.

Buna göre, bu açılıшта üç çeşit içecek alan davetli sayısı kaçtır?

- A) 7 B) 9 C) 11 D) 13 E) 15

27. Aşağıda, 12 kalem ve 1'den 9'a kadar birbirinden farklı rakamlarla numaralandırılacak 9 topun görünümü verilmiştir.




Şekilde, her bir kalemin yazan ucunun gösterdiği topun numarası kalemin yazmayan ucunun gösterdiği topun numarasından büyüktür.

Örneğin, yukarıdaki şekilde B sayısı A sayısından büyüktür.

Buna göre, $A + E + G$ toplamı kaçtır?

- A) 13 B) 14 C) 15 D) 16 E) 17

28. Bir anaokulunda; sarı renkli küplerden oluşan dört basamaklı bir oyuncağın en üst basamağında bulunan bir çocuk, şekilde gösterilen mavi renkli minderlerden herhangi birine ulaşmak istemektedir.



Bu çocuk ilk üç adımda, bulunduğu küple ortak ayrıta sahip olan bir basamak aşağıdaki küplerden herhangi birine, son adımda ise bulunduğu küple ortak ayrıta sahip olan minderlerden herhangi birine zıplayacaktır.

Buna göre, bu çocuk minderlere kaç farklı yoldan ulaşabilir?

- A) 8 B) 12 C) 16 D) 18 E) 20

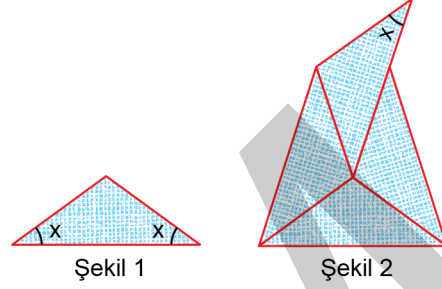
29. Bir elektronik tartı; her ölçümde, üzerine konulan ağırlığı % 20 olasılıkla gerçek ağırlığından 1 kilogram fazla, % 30 olasılıkla gerçek ağırlığından 1 kilogram az, % 50 olasılıkla da doğru tartmaktadır.

Gerçek ağırlıkları sırasıyla 80 ve 81 kilogram olan Ali ile Mehmet bu tartıda birer kere tartılacaklardır.

Buna göre, ölçüm sonunda Ali ile Mehmet'in ağırlıklarının birbirine eşit çıkma olasılığı yüzde kaçtır?

- A) 40 B) 35 C) 30 D) 25 E) 20

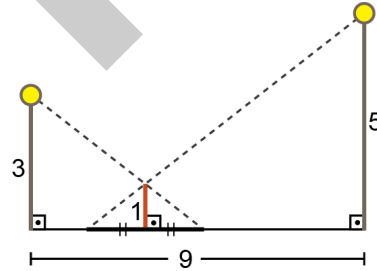
30. Amblem tasarlayan Hande, Şekil 1'deki ikizkenar üçgen biçimindeki kartondan dört tanesini bir masa üzerinde aralarında boşluk bırakmadan birleştirerek her birinin tamamen görüldüğü Şekil 2'deki deseni elde ediyor.



Buna göre, x açısının ölçüsü kaç derecedir?

- A) 15 B) 20 C) 30 D) 36 E) 48

31. Doğrusal bir yol üzerinde, aralarındaki uzaklık 9 metre olan 3 ve 5 metre yüksekliğindeki iki lamba direği ve bu direklerin arasında bulunan 1 metre yüksekliğindeki bir çubuk şekilde gösterilmiştir.

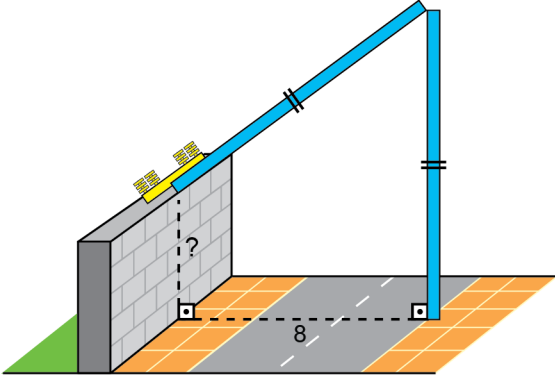


Direkler üzerindeki lambaların çubuğun her iki tarafında oluşturduğu gölgelerin boyları birbirine eşittir.

Buna göre, lambalardan birinin oluşturduğu gölgenin boyu kaç metredir?


- A) 1 B) 1,2 C) 1,5 D) 1,8 E) 2

32. Uzunluğu 20 metre olan mavi renkli elektrik direği, fırtına nedeniyle tam ortadan kırılmış ve direğin uç noktası şekilde görüldüğü gibi direğe 8 metre uzaklıkta bulunan duvarın üzerine gelmiştir.




Buna göre, duvarın yüksekliği kaç metredir?

- A) 2 B) 3 C) 4 D) 5 E) 6
33. Aşağıda, dikdörtgen biçiminde bir televizyon ekranı ile köşegeni televizyonun üst kenarında bulunan kare şeklindeki bir dantelin yarısı gösterilmiştir.



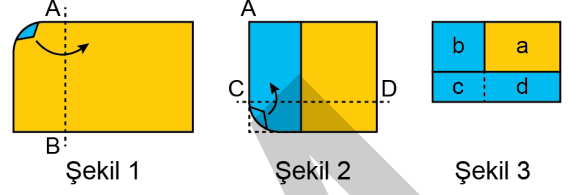
Bu dantelin ekranın üzerinde kalan köşeleri, aşağıdaki gibi düşey doğrultuda 2 birim aşağı kaydırıldığında, dantelin ekranın üzerinde kapladığı alanın ilk duruma göre 16 birimkare arttığı görülüyor.



Buna göre, dantelin alanı kaç birimkaredir?

- A) 48 B) 49 C) 50 D) 56 E) 64

34. Dikdörtgen şeklinde bir kâğıt; önce kısa kenarına paralel olan AB doğrusu boyunca Şekil 1'deki gibi ok yönünde, sonra uzun kenarına paralel olan CD doğrusu boyunca Şekil 2'deki gibi ok yönünde katlanarak Şekil 3 elde ediliyor.

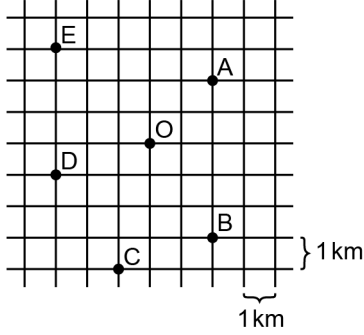


Son şekilde oluşan dikdörtgenlerin alanları a, b, c ve d birimkaredir.

Buna göre, başlangıçta kullanılan kâğıdın alanının a, b, c ve d türünden ifadesi aşağıdakilerden hangisidir?

- A) $a + 2b + 3c + 4d$ B) $a + 2b + 2c + 2d$
 C) $a + 2b + 2c + 3d$ D) $a + 2b + 4c + 2d$
 E) $2a + 2b + 2c + 2d$

35. Birim karelerden oluşan ve her birim karenin alanının 1 km^2 olduğu bir harita üzerinde A, B, C, D ve E köylerinin konumları şekildeki gibi gösterilmiştir.



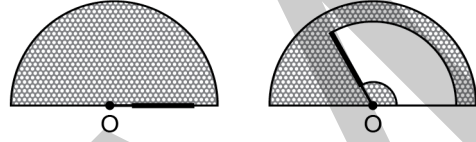
O noktasında bulunan bir helikopterin 4 kilometre uçuşmasına yetecek kadar yakıtı bulunmaktadır.

Bu helikopterin ulaşabileceği en uzak köy aşağıdakilerden hangisidir?

- A) A B) B C) C D) D E) E

36. Yarıçapı r olan bir dairenin alanı $A = \pi r^2$ formülü ile hesaplanır.

Bir arabanın yarım daire biçimindeki arka camında O noktası etrafında dönebilen bir silecek bulunmaktadır. Bu silecek, cam üzerinde O noktasına uzaklığı en az 1 birim, en fazla 5 birim olan noktaları temizlemektedir. Çalıştırılan bu silecek şekildeki gibi 120° döndüğünde sileceğin temizlediği alan camın alanının yarısı olmaktadır.

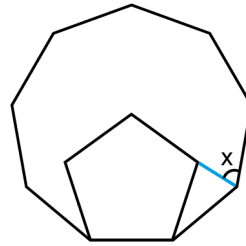


Buna göre, camın yarıçapı kaç birimdir?

- A) $4\sqrt{2}$ B) $5\sqrt{2}$ C) $6\sqrt{2}$
D) $4\sqrt{3}$ E) $5\sqrt{3}$

37. n kenarlı bir düzgün çokgenin bir iç açısının ölçüsü $\frac{(n-2) \cdot 180^\circ}{n}$ olarak hesaplanır.

Şekilde, birer kenarı ortak olan bir düzgün dokuzgen ve bir düzgün beşgen ile bu çokgenlerin birer köşesini birleştiren mavi renkli bir doğru parçası verilmiştir.



Buna göre, x açısının ölçüsü kaç derecedir?

- A) 64 B) 66 C) 68 D) 70 E) 72

38. Dik koordinat düzleminde A(a, b) ve B(c, d) noktaları arasındaki uzaklık

$$|AB| = \sqrt{(c-a)^2 + (d-b)^2}$$

formülüyle hesaplanır.

Aşağıdaki ölçeklendirilmiş haritada; A, B ve C noktalarının dik koordinat düzlemindeki koordinatları belirli bir uzunluk birimine göre verilmiştir.



İki nokta arasındaki uzaklığı hesaplayan bir harita programı, A(2, 8) ile B(10, 14) noktaları arasındaki mavi çizgi ile gösterilen uzaklığı 6 kilometre olarak hesaplıyor.

Buna göre, bu harita programı A ile C noktaları arasındaki mavi çizgi ile gösterilen uzaklığı kaç kilometre olarak hesaplar?

- A) 7,8 B) 8,1 C) 9,6 D) 10,4 E) 11,7

39. Başlangıçta tüm yüzleri beyaz renkli olan bir dikdörtgenler prizmasının bir yüzü kırmızı, bir yüzü mavi ve bir yüzü sarı renge boyandığında

- kırmızı boyalı yüz haricindeki yüzlerinin alanları toplamı 82 birimkare,
- mavi boyalı yüz haricindeki yüzlerinin alanları toplamı 79 birimkare,
- sarı boyalı yüz haricindeki yüzlerinin alanları toplamı 74 birimkare

olarak hesaplanıyor.

Buna göre, bu dikdörtgenler prizmasının yüzey alanı kaç birimkaredir?

- A) 90 B) 92 C) 94 D) 96 E) 98

40. Yarıçapı r ve yüksekliği h olan bir dik dairesel silindirin hacmi $V = \pi r^2 h$ formülüyle hesaplanır.

Yükseklikleri eşit, içleri boş ve tabanları birbirine paralel olacak şekilde iç içe bulunan iki dik dairesel silindirin üzerinde iki musluk bulunmaktadır. Bu musluklardan biri içteki silindire, diğeri ise silindirler arasında kalan bölgeye birim zamanda aynı miktarda su doldurmaktadır.

Bu musluklar aynı anda açılıp içteki silindirin tamamı dolduğu an musluklar kapatılıyor. Son durumda, içteki silindirde bulunan suyun yüksekliği, silindirler arasında kalan bölgedeki suyun yüksekliğinin 4 katı oluyor.

Buna göre, dıştaki silindirin yarıçapının içteki silindirin yarıçapına oranı kaçtır?

- A) $\sqrt{3}$ B) $\sqrt{5}$ C) $\sqrt{7}$

- D) 2 E) 3

1. Bu testte sırasıyla, Fizik (1-7), Kimya (8-14), Biyoloji (15-20) alanlarına ait toplam 20 soru vardır.
2. Cevaplarınızı, cevap kâğıdının Fen Bilimleri Testi için ayrılan kısmına işaretleyiniz.

1. Bilimsel bilgiye ulaşmak için;

- I. deney,
II. gözlem,
III. akıl yürütme

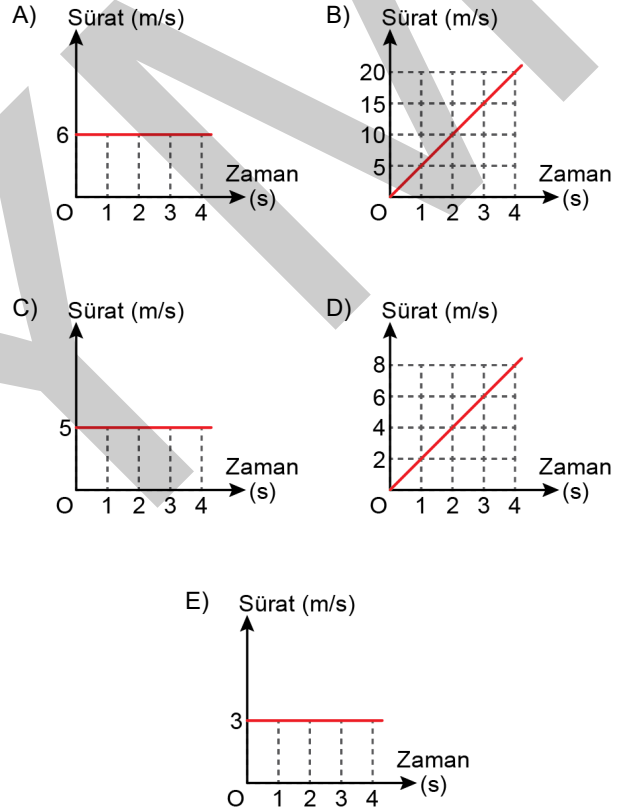
eylemlerinden hangileri kullanılabilir?

- A) Yalnız I B) Yalnız II C) Yalnız III
D) I ve III E) I, II ve III

2. Bir hareketlinin zamana göre aldığı yol, aşağıdaki tabloda verilmiştir.

Yol (m)	0	5	10	15	20
Zaman (s)	0	1	2	3	4

Buna göre, bu hareketlinin *sürat-zaman* grafiği aşağıdakilerden hangisi gibi olabilir?



3. Ahsen, tamamen su dolu bir taşıma kabına suda çözünmeyen K ve L katı cisimlerini ayrı ayrı yavaşça bıraktığında; her ikisinin eşit hacimde su taşıdığını gözlemliyor.

Ahsen'in bu gözlemine göre;

- I. K ve L cisimlerine suyun uyguladığı kaldırma kuvvetleri eşittir.
- II. K ve L cisimlerinin hacimleri eşittir.
- III. K ve L cisimlerinin özkütleleri eşittir.

yargılarından hangileri kesinlikle doğrudur?

- A) Yalnız I B) Yalnız III C) I ve II
D) II ve III E) I, II ve III

4. Hava sıcaklığının deniz suyu sıcaklığından yüksek olduğu bir yaz günü, Akdeniz sahilinde deniz kenarında oynamakta olan bir çocuk, denizden bir kova su alıyor.

Deniz suyunun homojen olduğu bilindiğine göre, deniz suyu ve kovadaki su ile ilgili;

- I. Bir kova su aldığı anda kovadaki suyun öz ısısı denizdeki suyun öz ısısına eşittir.
- II. Kovadaki suyun ısı sığası denizdeki suyun ısı sığasına eşittir.
- III. Kısa bir süre sonra kovadaki suyun sıcaklığı deniz suyunun sıcaklığına göre daha fazla artacaktır.

yargılarından hangileri doğrudur?

- A) Yalnız I B) Yalnız II C) Yalnız III
D) I ve III E) II ve III

5. Elektriksel olarak nötr olmadığı bilinen K, L ve M iletken küreleri ayrı ayrı birbirlerine yaklaştırılıyor. Küreler arası elektriksel etkileşmelerden dolayı K küresinin L küresini ittiği, L küresinin ise M küresini çektiği gözleniyor.

Buna göre, kürelerin yüklerinin cinsleri ile ilgili aşağıdakilerden hangisi doğru olabilir?

K küresi	L küresi	M küresi
A) Pozitif	Pozitif	Pozitif
B) Negatif	Negatif	Negatif
C) Negatif	Pozitif	Pozitif
D) Negatif	Negatif	Pozitif
E) Pozitif	Negatif	Negatif

6. Aydınlanma ile ilgili kavramlardan; ışık şiddetinin birimi cd, ışık akısının birimi lm ve aydınlanma şiddetinin birimi lüx'tür.

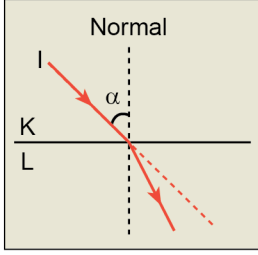
Buna göre;

- I. kaynağın ışık şiddeti,
- II. toplam ışık akısı,
- III. aydınlanma şiddeti

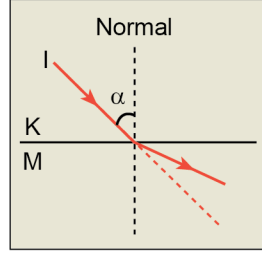
değişkenlerinden hangilerinin büyüklüğü ışık kaynağına olan uzaklığa bağlı olarak değişir?

- A) Yalnız I B) Yalnız III C) I ve II
D) II ve III E) I, II ve III

7. I ışık ışınının K ortamından L ve M ortamlarına geçişi Şekil I ve Şekil II'de verilmiştir.

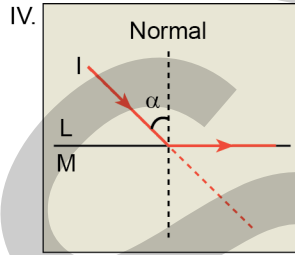
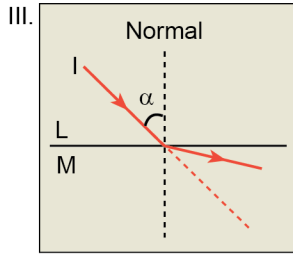
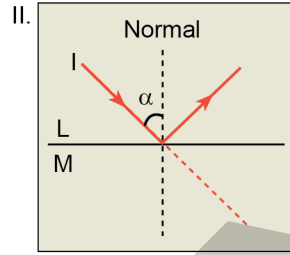
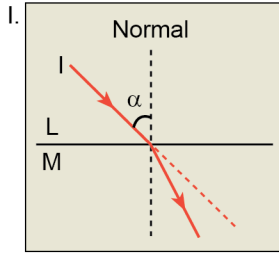


Şekil I



Şekil II

Buna göre I ışık ışını L ortamından M ortamına geçerken;



şekillerindeki yollardan hangilerini izleyebilir?

- A) Yalnız I B) I ve IV C) II ve III
D) I, II ve III E) II, III ve IV

8. I. Kütle korunumu kanunu
II. Sabit oranlar kanunu
III. Katlı oranlar kanunu

Yukarıdaki kimya kanunlarından hangileri Dalton Atom Kuramı ile açıklanabilir?

- A) Yalnız I B) Yalnız II C) I ve III
D) II ve III E) I, II ve III

9. ${}_4\text{Be}$, ${}_6\text{C}$, ${}_9\text{F}$ elementleriyle ilgili aşağıdaki ifadelerden hangisi doğrudur?

- A) C elementi metal olarak sınıflandırılır.
B) Birinci iyonlaşma enerjisi en küçük olan element F'dir.
C) Atom yarıçapı en büyük olan element Be'dir.
D) Be'nin elektron alma eğilimi, C'ninkinden daha fazladır.
E) C'nin elektronegatifliği, F'nin elektronegatifliğinden daha büyüktür.

10. NaCl, HCl, Cl₂ maddelerindeki atom veya iyonlar arası bağ türleri aşağıdakilerin hangisinde doğru olarak verilmiştir?

(₁H, ₁₁Na, ₁₇Cl)

NaCl	HCl	Cl ₂
A) iyonik	polar kovalent	apolar kovalent
B) polar kovalent	polar kovalent	apolar kovalent
C) iyonik	iyonik	polar kovalent
D) apolar kovalent	apolar kovalent	apolar kovalent
E) iyonik	apolar kovalent	polar kovalent

11. Sıvıların buhar basıncı ve kaynama sıcaklığıyla ilgili,

- Aynı sıcaklıkta buhar basıncı büyük olan sıvının kaynama sıcaklığı da büyüktür.
- Ağızı açık bir kaptaki sıvının buhar basıncı atmosfer basıncına eşit olduğunda sıvı kaynamaya başlar.
- Sıcaklık arttıkça sıvının buhar basıncı artar.

yargılarından hangileri doğrudur?

- A) Yalnız I B) Yalnız II C) I ve III
D) II ve III E) I, II ve III

12. Mürekkeplerle ilgili,

- Renklendirici olarak pigment ya da boya içerirler.
- Kolay kurumaları amacıyla çözücü olarak sudan daha uçucu organik sıvılar kullanılabilir.
- Uygulanan yüzeye tutunmaları için bağlayıcı içerirler.

ifadelerinden hangileri doğrudur?

- A) Yalnız I B) Yalnız II C) Yalnız III
D) I ve III E) I, II ve III

13. Sıvı hâlde bulunan aşağıdaki maddelerden üç ayrı kaptaki 100'er mL yer almaktadır.

- kap : C₂H₅OH (etanol)
- kap : CCl₄ (karbon tetraklorür)
- kap : C₆H₁₄ (heksan)

Daha sonra her bir kaba aynı koşullarda 100'er mL saf su ilave edilmiştir.

Buna göre kaplardan hangilerinde homojen bir karışım oluşur?

(Su ve etanol polar, karbon tetraklorür ve heksan apolar moleküllerdir.)

- A) Yalnız I B) Yalnız II C) Yalnız III
D) I ve II E) II ve III

14.	<u>Bileşik</u>	<u>Hidrokarbon türü</u>
I.	$H_2C=CH_2$	Alken
II.	$HC\equiv C-CH_3$	Alkol
III.	$H_3C-CH_2-CH_3$	Alkan

Yukarıda verilen bileşik-hidrokarbon türü eşleştirmelerinden hangileri doğrudur?

- A) Yalnız I B) Yalnız II C) Yalnız III
D) I ve III E) II ve III

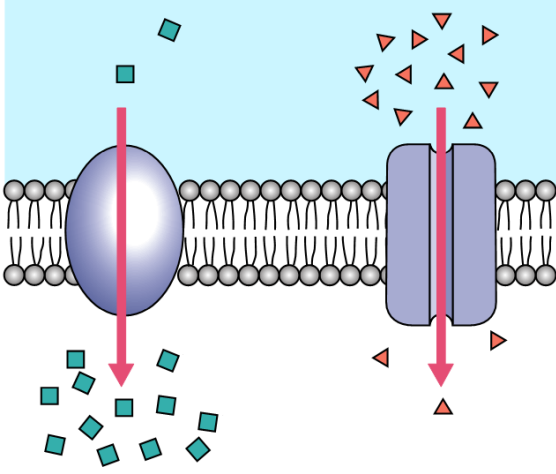
15. Bir grup öğrenci proje çalışması kapsamında "Işığın, patates bitkisinin filizlenmesi üzerinde olumlu etkisi vardır." görüşünü ileri sürerek araştırmaya başlıyor. Öğrencilerin bu amaçla yaptığı çalışmaların aşamaları aşağıda verilmiştir.

- 10 adet patates alınarak her biri uzunlamasına ikiye kesilmiştir.
- Her bir patates parçasının üzerindeki göz bölgeleri sayılıp kaydedilmiştir.
- Her bir patates parçasının alt kısmı, ıslatılmış kağıt havlulara sarılmış ve kesik kısımları üste gelecek şekilde şeffaf naylon torbalara yerleştirilmiştir.
- Naylon torbaların ağızları kapatılarak üzerlerine toplu iğneyle eşit sayıda delik açılmıştır.
- Bu şekilde hazırlanan patateslerden yarısı ışık alan yarısı da karanlık ortama konulup diğer koşullar özdeş tutulmuştur.
- Öğrenciler bir hafta sonra naylon torbaların ağızlarını açarak her bir patates parçasının üzerindeki filizleri sayarak kaydetmişlerdir. Bu çalışmayı üç kez tekrarlamışlardır.
- Bulgularına göre ışığın, filizlenmeyi olumlu yönde etkilediğini kaydetmişlerdir.

Öğrencilerin bu proje çalışmasında aşağıdakilerin hangisi yer almaz?

- A) Kontrollü deney yapma B) Gözlem yapma
C) Teori oluşturma D) Çıkarım yapma
E) Hipotez oluşturma

16. Aşağıdaki şekilde hücre zarında gerçekleşen iki farklı taşıma olayı gösterilmiştir.



Bu taşıma olaylarıyla ilgili,

- I. Madde geçişleri derişim farkına göre kendiliğinden gerçekleşir.
- II. Zar proteinleri işlev görür.
- III. Hücre tarafından enerji harcanarak gerçekleşir.

İfadelerinden hangilerinin her iki taşıma şekli için ortak olduğu söylenebilir?

- A) Yalnız I B) Yalnız II C) I ve II
D) I ve III E) II ve III

17. "Aşağıdaki özelliklerden hangisine sahip olması bir hayvanın kuş olduğunun kanıtı sayılır?"

Bu sorunun yöneltildiği bir öğrenci, aşağıdakilerden hangisini işaretlerse soruyu doğru cevaplamış olur?

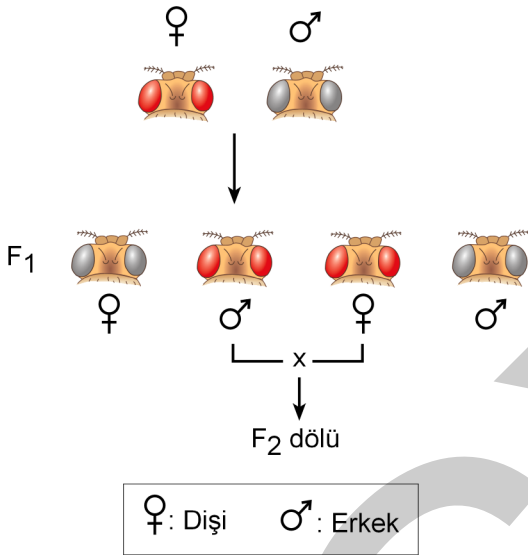
- A) Uçma yeteneğine sahip olma
B) Kanatlara sahip olma
C) Yumurtlayarak çoğalma
D) Sabit vücut sıcaklığına sahip olma
E) Vücutlarında tüylere sahip olma

18. Soğan kökü hücrelerinde hücre bölünmesi incelenirken aşağıdaki olaylardan hangisiyle karşılaşılmaz?

- A) Çekirdek zarının parçalanması
B) Kromatin ipliklerin kısalıp kalınlaşması
C) İğ ipliklerinin oluşumu
D) Kromatitlerin hücrenin kutuplarına çekilmesi
E) Sitokinezin boğumlanmayla gerçekleşmesi

19. Meyve sineklerinde eşey kromozomları dişilerde XX, erkeklerde XY'dir. Göz renginden sorumlu gen, X kromozomu üzerinde yer alır. Kırmızı göz renginden sorumlu alel (R), beyaz göz renginden sorumlu alele (r) baskındır.

- Laboratuvarında yapılan bir deneyde kırmızı gözlü bir dişi, beyaz gözlü bir erkekle çaprazlanarak F₁ dölü (kırmızı gözlü erkek ve dişi, beyaz gözlü erkek ve dişi bireyler) elde edilmiştir.
- Deneyin ikinci aşamasında ise F₁ dölünden alınan kırmızı gözlü erkek ve dişi birey çaprazlanarak F₂ dölü elde edilmiştir.



Bu deneye göre,

- F₁ dölündeki beyaz gözlü erkek ve dişi bireylerin oranı yaklaşık olarak birbirine eşittir.
- F₂ dölünde beyaz gözlü bireylerin ortaya çıkması beklenmez.
- F₂ dölünde göz rengi fenotipinin cinsiyetler arasında dağılım oranı bakımından farklılığın olması beklenir.

yargılarından hangilerine ulaşılabilir?

- A) Yalnız I B) Yalnız II C) Yalnız III
D) I ve III E) I, II ve III

20. Tropikal Yağmur Ormanları biyomuyla ilgili aşağıdaki ifadelerden hangisi **yanlıştır**?

- Tropik ormanda dikey tabakalaşma çok belirgindir.
- Ağaç türleri bakımından çok zengindir.
- Orman içinde mikroklima farklılaşması görülür.
- Yıllık yağış ve sıcaklık ortalamaları yüksektir.
- Ekvator çevresinde yer aldığından, bu biyomdaki bitki türleri arasında ışık için rekabet şiddetli değildir.

SINAVDA UYULACAK KURALLAR

1. Sınav salonunda saate entegre kamera ile kayıt yapılıyor ise; kamera kayıtlarının incelenmesinden sonra sınav kurallarına uymadığı tespit edilen adayların sınavları ÖSYM Yönetim Kurulunca geçersiz sayılacaktır.
2. **Cep telefonu ile sınava girmek kesinlikle yasaktır.** Her türlü elektronik/mekanik cihazla ve çağrı cihazı, telsiz, fotoğraf makinesi vb. araçlarla; cep bilgisayarını, her türlü saat ile, kablosuz iletişim sağlayan bluetooth, kulaklık vb. her türlü bilgisayar özelliği bulunan cihazlarla; her türlü kesici ve delici alet, ateşli silah vb. teçhizatla; kalem, silgi, kalemtırtaş, müsvedde kâğıdı, defter, kitap, ders notu, sözlük, dergi, gazete vb. yayınlar, hesap makinesi, pergel, açölçer, cetvel vb. araçlarla sınava girmek kesinlikle yasaktır. Sınava kolye, küpe, yüzük (alyans hariç), bilezik, broş, anahtar, anahtarlık, metal para gibi metal içerikli eşyalarla (basit başörtü iğnesi ve ince metal tokalı kemer hariç); plastik veya camdan yapılmış her türlü güneş gözlüğü ile (şeffaf/numaralı gözlük hariç), banka/kredi kartı, ulaşım kartı vb. kartlarla; yiyecek-içecek (şeffaf pet şişe içerisindeki su hariç) ve diğer tüketim maddeleri ile gelmeleri kesinlikle yasaktır. Bu tür eşya, araç-gereçlerle sınava girmiş adaylar mutlaka Salon Tutanağı'na yazılacak, bu adayların sınavı geçersiz sayılacaktır. **Ancak, ÖSYM Başkanlığı tarafından belirlenen Engelli ve Yedek Sınav Evrakı Yönetim Merkezi (YSYM) binalarında sınava girecek olan engelli adayların sınava giriş belgelerinde yazılı olan araç-gereçler, cihazlar vb. yukarıda belirtilen yasakların kapsamı dışında değerlendirilecektir.**
3. Bu sınav için verilen toplam cevaplama süresi **135 dakikadır (2 saat, 15 dakika)**. Sınav başladıktan sonra **ilk 100 ve son 15** dakika içinde adayın sınavdan çıkmasına kesinlikle izin verilmeyecektir. **Bu süreler dışında, cevaplama sınav bitmeden tamamlarsanız cevap kâğıdınızı ve soru kitapçığınızı salon görevlilerine teslim ederek salonu terk edebilirsiniz. Bildirilen sürele aykırı davranışlardan adayın kendisi sorumludur.**
4. **Sınav salonundan ayrılan aday, her ne sebeple olursa olsun, tekrar sınav salonuna alınmayacaktır.**
5. Sınav süresince görevlilerle konuşmak, görevlilere soru sormak yasaktır. Aynı şekilde görevlilerin de adaylarla yakından ve alçak sesle konuşmaları ayrıca adayların birbirinden kalem, silgi vb. şeyleri istemeleri kesinlikle yasaktır.
6. Sınav sırasında, görevlilerin her türlü uyarısına uymak zorundasınız. Sınavınızın geçerli sayılması, her şeyden önce, sınav kurallarına uymanıza bağlıdır. Kurallara aykırı davranışta bulunanlar ve yapılacak uyarılara uymayanlar Salon Tutanağı'na yazılacak ve sınavları geçersiz sayılacaktır.
7. Sınav sırasında kopya çeken, çekmeye kalkışan, kopya veren, kopya çekilmesine yardım edenler Salon Tutanağı'na yazılacak ve bu adayların sınavları geçersiz sayılacaktır. Adayların test sorularına verdikleri cevapların dağılımları bilgi işlem yöntemleriyle incelenecek, bu incelemelerden elde edilen bulgular bireysel veya toplu olarak kopya çekildiğini gösterirse kopya eylemine katılan adayın/adayların sınavı geçersiz sayılacak ayrıca 2 yıl boyunca ÖSYM tarafından düzenlenen hiçbir sınavı başvuru yapamayacak ve sınava giremeyecektir. Sınav görevlileri bir salondaki sınavın, kurallara uygun biçimde yapılmadığını, toplu kopya girişiminde bulunulduğunu raporlarında bildirdiği takdirde, ÖSYM bu salonda sınava giren tüm adayların sınavını geçersiz sayabilir.
8. Cevap kâğıdında doldurmanız gereken alanlar bulunmaktadır. Bu alanları doldurunuz. Cevap kâğıdınızı başkaları tarafından görülmecek şekilde tutmanız gerekmektedir. Cevap kâğıdına yazılacak her türlü yazıda ve yapılacak bütün işaretlemelerde kurşun kalem kullanılacaktır. Sınav süresi bittiğinde cevapların cevap kâğıdına işaretlenmiş olması gerekir. Soru kitapçığına işaretlenen cevaplar geçerli değildir.
9. Soru kitapçığınızı alır almaz kapağında bulunan alanları doldurunuz. Size söylendiği zaman sayfaların eksik olup olmadığını, kitapçıkta basım hatalarının bulunup bulunmadığını ve soru kitapçığının her sayfasında basılı bulunan soru kitapçık numarasının, kitapçığın ön kapağında basılı soru kitapçık numarasıyla aynı olup olmadığını kontrol ediniz. Soru kitapçığının sayfası eksik veya basımı hatalıysa değiştirilmesi için salon başkanına başvurunuz. **Size verilen soru kitapçığının numarasını cevap kâğıdınızdaki "Soru Kitapçık Numarası" alanına yazınız ve kodlayınız. Cevap kâğıdınızdaki "Soru kitapçık numaramı doğru kodladım." kutucuğunu işaretleyiniz. Soru kitapçığı üzerinde yer alan Soru Kitapçık Numarasını doğru kodladığınızı beyan eden alanı imzalayınız.**
10. Sınav sonunda soru kitapçıkları toplanacak ve ÖSYM'de incelenecektir. Soru kitapçığının sayfalarını koparmayınız. Soru kitapçığının bir sayfası bile eksik çıkarsa sınavınız geçersiz sayılacaktır.
11. Cevap kâğıdına ve soru kitapçığına yazılması ve işaretlenmesi gereken bilgilerde bir eksiklik ve/veya yanlışlık olması hâlinde sınavınızın değerlendirilmesi mümkün değildir, bu husustaki özen yükümlülüğü ve sorumluluk size aittir.
12. Soru kitapçığının sayfalarındaki boş yerleri müsvedde için kullanabilirsiniz.
13. Soruları ve/veya bu sorulara verdiğiniz cevapları ayrı bir kâğıda yazıp bu kâğıdı dışarı çıkarmanız kesinlikle yasaktır.
14. **Sınav salonundan ayrılmadan önce, soru kitapçığınızı, cevap kâğıdınızı ve sınava giriş belgenizi salon görevlilerine eksiksiz olarak teslim ediniz. Bu konudaki sorumluluk size aittir.**
15. **Her testin cevaplarını cevap kâğıdındaki ilgili alana işaretlemeye dikkat ediniz.**
16. Sınav süresi salon görevlilerinin "SINAV BAŞLAMIŞTIR" ibaresiyle başlar, "SINAV BİTMİŞTİR" ibaresiyle sona erer.

Bu testlerin her hakkı saklıdır. Hangi amaçla olursa olsun, testlerin tamamının veya bir kısmının Merkezimizin yazılı izni olmadan kopya edilmesi, fotoğrafının çekilmesi, herhangi bir yolla çoğaltılması, yayımlanması ya da kullanılması yasaktır. Bu yasağa uymayanlar gerekli cezai sorumluluğu ve doğacak tüm mali külfeti peşinen kabullenmiş sayılır.

2018 TEMEL YETERLİLİK TESTİ (TYT)

YKS 1. OTURUM TEMEL YETERLİLİK TESTİ (TYT)

30-06-2018

TÜRKÇE TESTİ

1. E
2. C
3. E
4. E
5. B
6. B
7. E
8. D
9. C
10. C
11. D
12. C
13. B
14. E
15. D
16. C
17. D
18. D
19. B
20. A
21. A
22. D
23. A
24. C
25. A
26. E
27. E
28. E
29. D
30. A
31. E
32. A
33. C
34. B
35. D
36. B
37. C
38. D
39. B
40. D

SOSYAL BİLİMLER TESTİ

1. B
2. C
3. D
4. C
5. A
6. C
7. C
8. A
9. E
10. B
11. B
12. D
13. B
14. E
15. E
16. A
17. E
18. D
19. B
20. D
21. A
22. A
23. E
24. C
25. B

TEMEL MATEMATİK TESTİ

1. D
2. E
3. B
4. C
5. B
6. C
7. D
8. A
9. B
10. E
11. B
12. D
13. C
14. A
15. B
16. E
17. A
18. D
19. A
20. E
21. E
22. A
23. D
24. A
25. A
26. D
27. E
28. C
29. D
30. D
31. C
32. C
33. C
34. D
35. B
36. A
37. B
38. A
39. C
40. B

FEN BİLİMLERİ TESTİ

1. E
2. C
3. A
4. D
5. D
6. B
7. E
8. E
9. C
10. A
11. D
12. E
13. A
14. D
15. C
16. B
17. E
18. E
19. D
20. E